

時こくと時間

年 組 名前

/12

■ つぎの時こくを 答えましょう。

① 3時25分の45分後



時 分

② 7時45分の30分後



時 分

③ 1時10分の55分後



時 分

④ 5時30分の35分後




時 分

⑤ 11時20分の55分後




時 分

⑥ 4時50分の50分後




時 分

⑦ 10時55分の40分後




時 分

⑧ 6時40分の40分後




時 分

⑨ 9時35分の30分後



時 分

⑩ 2時40分の45分後




時 分

⑪ 8時35分の55分後



時 分

⑫ 6時40分の50分後



時 分

時こくと時間

年 組 名前

/12

■ つぎの時こくを 答えましょう。

① 3時25分の45分後



4 時 10 分

② 7時45分の30分後



8 時 15 分

③ 1時10分の55分後



2 時 5 分

④ 5時30分の35分後



6 時 5 分

⑤ 11時20分の55分後



12 時 15 分

⑥ 4時50分の50分後




5 時 40 分

⑦ 10時55分の40分後




11 時 35 分

⑧ 6時40分の40分後




7 時 20 分

⑨ 9時35分の30分後




10 時 5 分

⑩ 2時40分の45分後




3 時 25 分

⑪ 8時35分の55分後



9 時 30 分

⑫ 6時40分の50分後



7 時 30 分