

時こくと時間

年 組 名前

/12

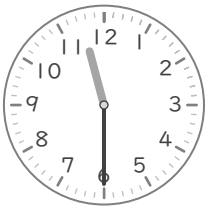
■ つぎの時こくを 答えましょう。

① 4時30分の40分後



時 分

② 11時30分の55分後



時 分

③ 6時35分の35分後



時 分

④ 9時40分の25分後



時 分

⑤ 8時25分の50分後



時 分

⑥ 10時50分の15分後



時 分

⑦ 3時50分の20分後




時 分

⑧ 5時25分の45分後



時 分

⑨ 7時45分の20分後




時 分

⑩ 1時15分の55分後




時 分

⑪ 2時50分の45分後



時 分

⑫ 5時55分の40分後



時 分

時こくと時間

年 組 名前

/12

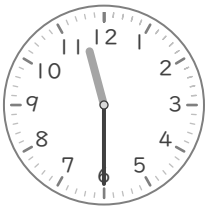
■ つぎの時こくを 答えましょう。

① 4時30分の40分後



5 時 10 分

② 11時30分の55分後



12 時 25 分

③ 6時35分の35分後



7 時 10 分

④ 9時40分の25分後



10 時 5 分

⑤ 8時25分の50分後




9 時 15 分

⑥ 10時50分の15分後



11 時 5 分

⑦ 3時50分の20分後




4 時 10 分

⑧ 5時25分の45分後



6 時 10 分

⑨ 7時45分の20分後




8 時 5 分

⑩ 1時15分の55分後




2 時 10 分

⑪ 2時50分の45分後



3 時 35 分

⑫ 5時55分の40分後



6 時 35 分