

# 時こくと時間

年 組 名前

/12


■ つぎの時こくを 答えましょう。

① 1時50分の 50分後



時 分

⑦ 10時50分の 40分後



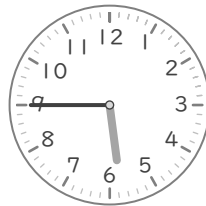
時 分

② 11時35分の 40分後



時 分

⑧ 5時45分の 40分後




時 分

③ 6時20分の 50分後



時 分

⑨ 7時25分の 45分後




時 分

④ 2時50分の 35分後




時 分

⑩ 4時55分の 30分後




時 分

⑤ 9時30分の 35分後



時 分

⑪ 3時45分の 55分後




時 分

⑥ 8時30分の 45分後



時 分

⑫ 2時45分の 20分後



時 分

# 時こくと時間

年 組 名前

/12


■ つぎの時こくを 答えましょう。

① 1時50分の50分後



2 時 40 分

② 11時35分の40分後



12 時 15 分

③ 6時20分の50分後



7 時 10 分

④ 2時50分の35分後



3 時 25 分

⑤ 9時30分の35分後




10 時 5 分

⑥ 8時30分の45分後



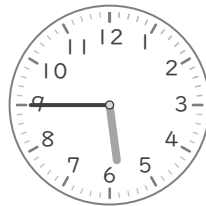
9 時 15 分

⑦ 10時50分の40分後




11 時 30 分

⑧ 5時45分の40分後




6 時 25 分

⑨ 7時25分の45分後




8 時 10 分

⑩ 4時55分の30分後




5 時 25 分

⑪ 3時45分の55分後



4 時 40 分

⑫ 2時45分の20分後



3 時 5 分