

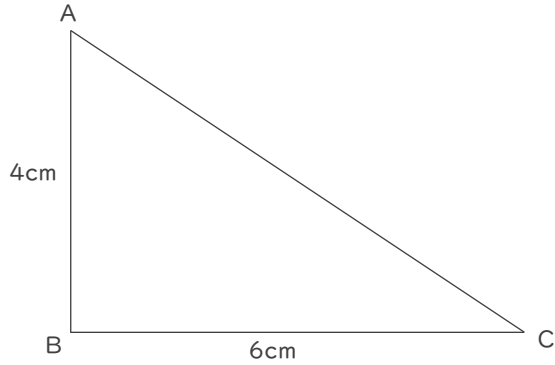
縮図のかき方

年 組 名前

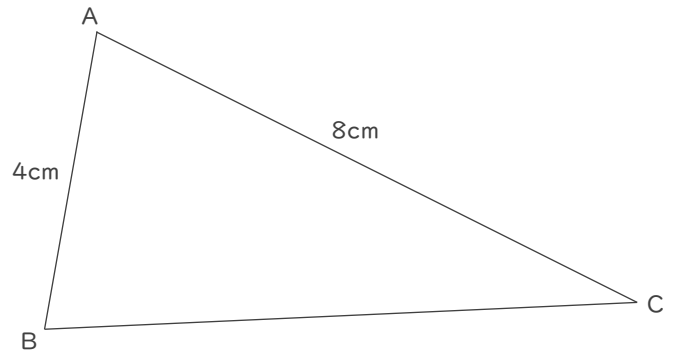
/ 6

■ 次のような縮図をかきましょう。

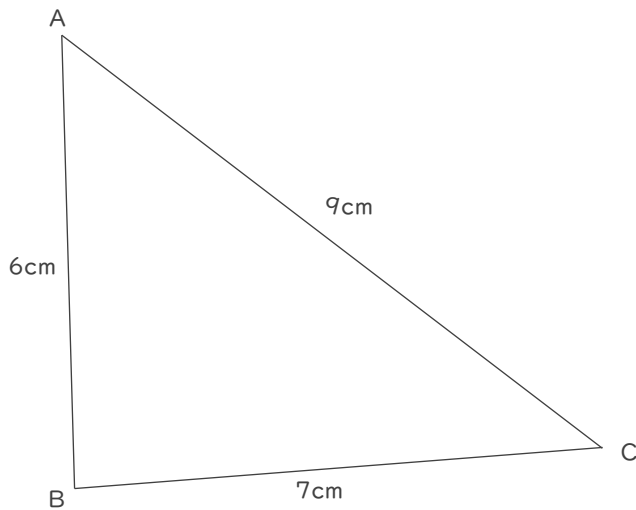
① 頂点 B を中心とした $\frac{1}{2}$ の縮図



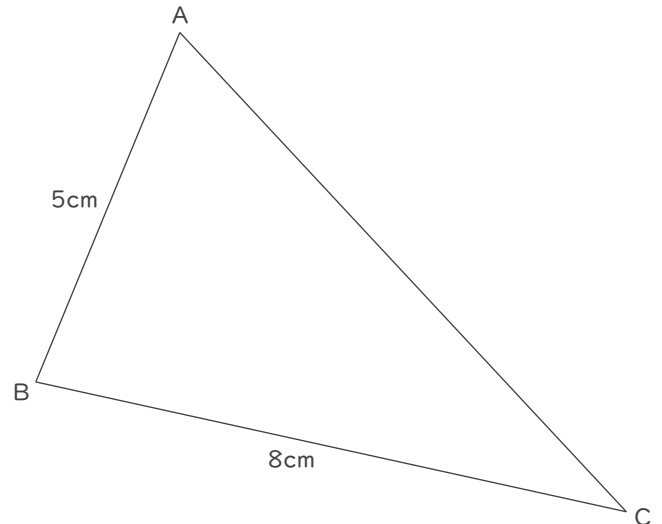
② 頂点 A を中心とした $\frac{1}{2}$ の縮図



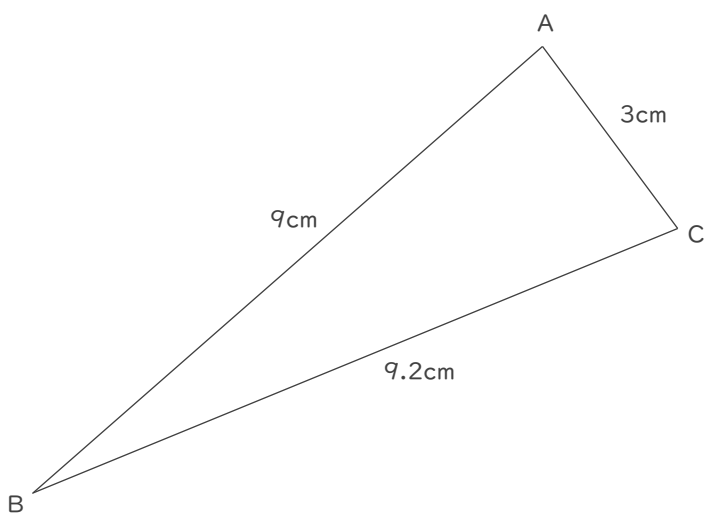
③ 頂点 A を中心とした $\frac{1}{3}$ の縮図



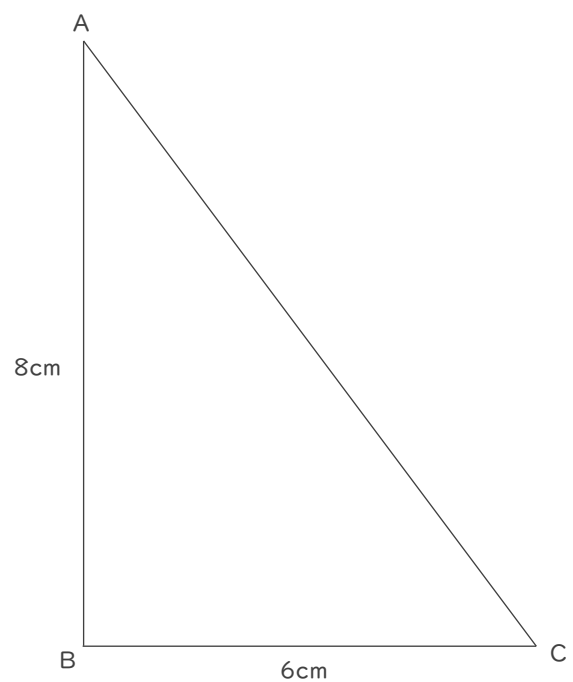
④ 頂点 B を中心とした $\frac{1}{2}$ の縮図



⑤ 頂点 A を中心とした $\frac{1}{2}$ の縮図



⑥ 頂点 B を中心とした $\frac{1}{4}$ の縮図



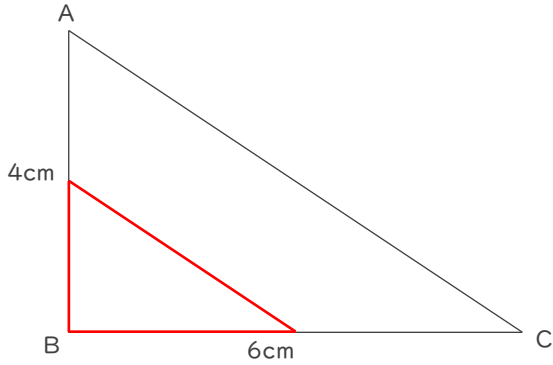
縮図のかき方

年 組 名前

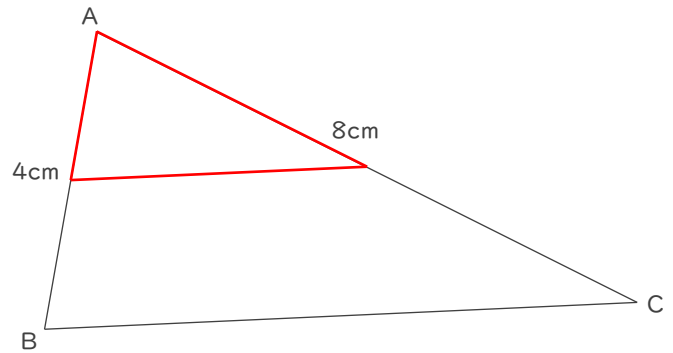
/ 6

■ 次のような縮図をかきましょう。

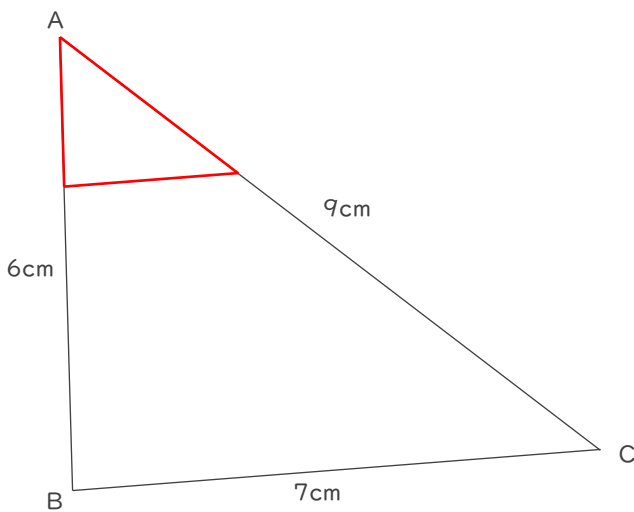
① 頂点 B を中心とした $\frac{1}{2}$ の縮図



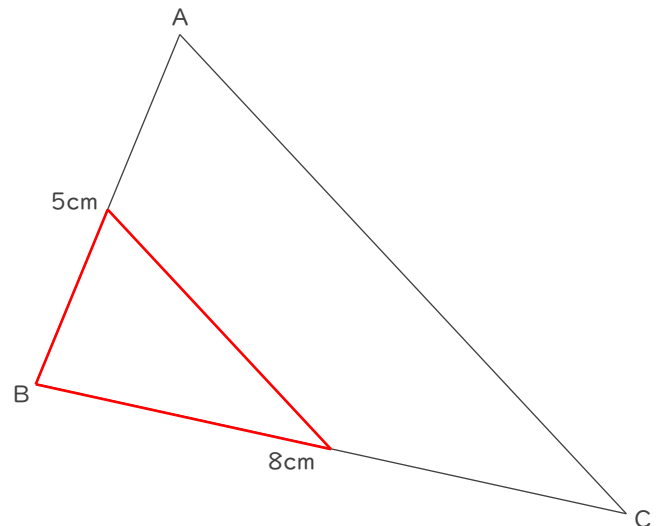
② 頂点 A を中心とした $\frac{1}{2}$ の縮図



③ 頂点 A を中心とした $\frac{1}{3}$ の縮図



④ 頂点 B を中心とした $\frac{1}{2}$ の縮図



⑤ 頂点 A を中心とした $\frac{1}{2}$ の縮図

⑥ 頂点 B を中心とした $\frac{1}{4}$ の縮図

