

# つみきを使って

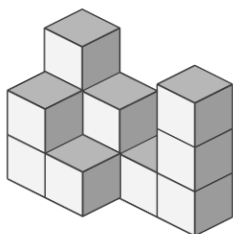
\_\_\_\_年 \_\_\_\_組 \_\_\_\_名前

\_\_\_\_ / 2

■ 外から色をぬったときに、3面 だけに色がぬられている つみきは何個でしょう。

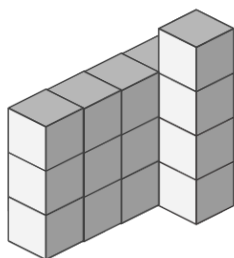
ただし、色は 下からはぬらないものとします。

①



\_\_\_\_ 個

②



\_\_\_\_ 個

# つみきを使って

年 組 名前

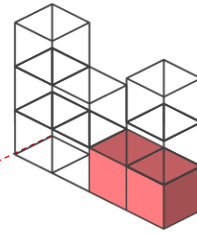
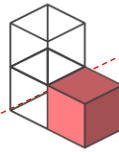
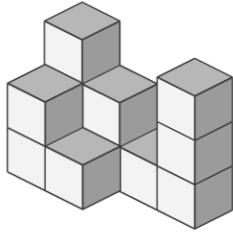
/ 2

■ 外から色をぬったときに、3面 だけに色がぬられている つみきは何個でしょう。

ただし、色は 下からはぬらないものとします。

①

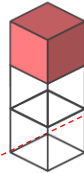
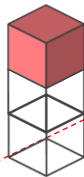
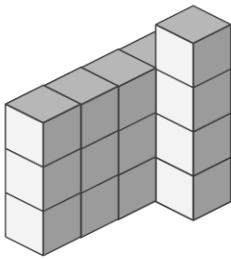
赤色で示した つみき が 3面 だけに色がぬられたつみき



3 個

②

赤色で示した つみき が 3面 だけに色がぬられたつみき



8 個