

# つみきを使って

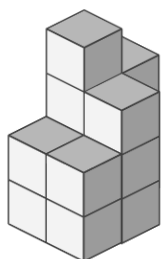
\_\_\_\_年 \_\_\_\_組 名前

\_\_\_\_ / 2

■ 外から色をぬったときに、3面 だけに色がぬられている つみきは何個でしょう。

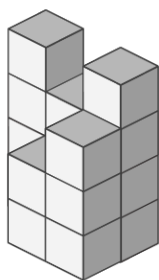
ただし、色は 下からはぬらないものとします。

①



\_\_\_\_ 個

②



\_\_\_\_ 個

# つみきを使って

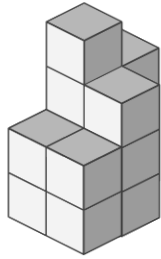
年 組 名前

/ 2

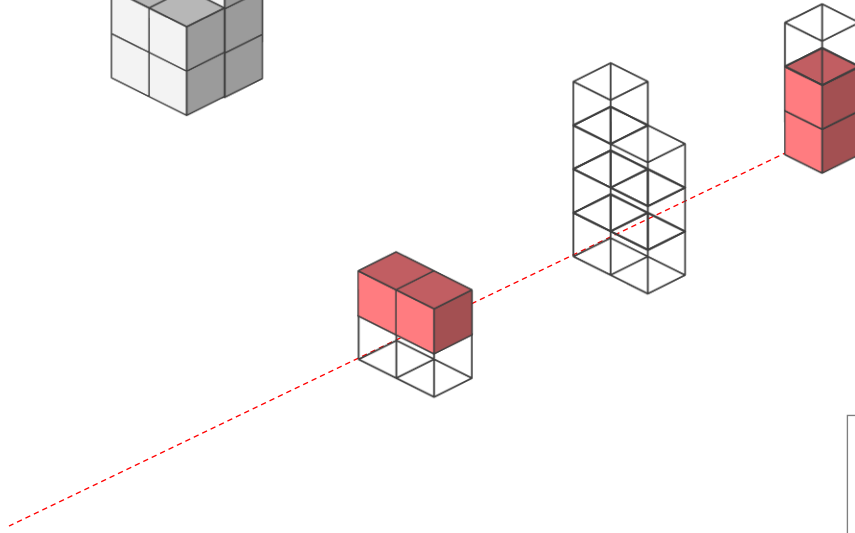
■ 外から色をぬったときに、3面 だけに色がぬられている つみき は何個でしょう。

ただし、色は 下からは ぬらないものとします。

①

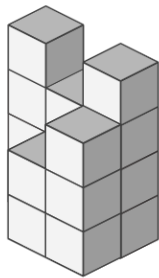


赤色で示した つみき が 3面 だけに色がぬられたつみき

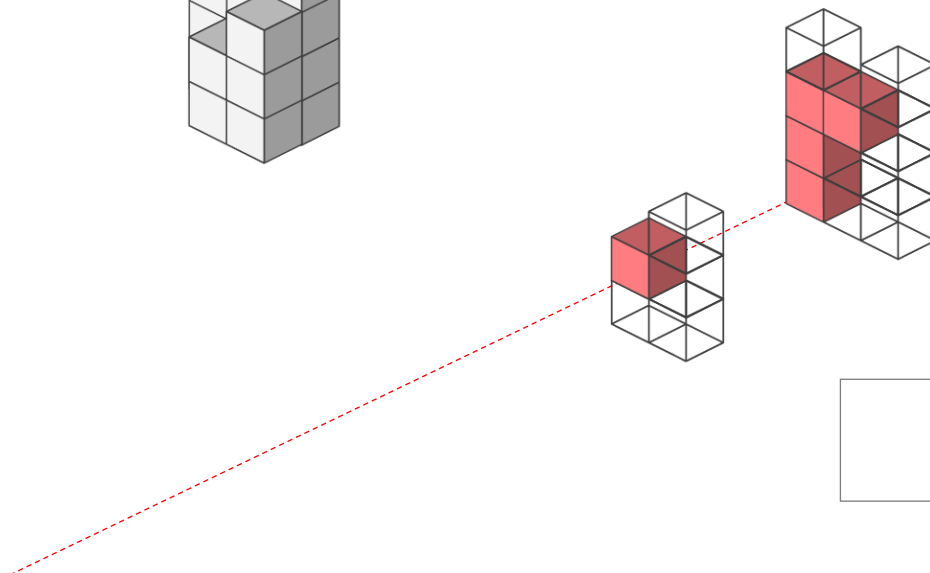


4 個

②



赤色で示した つみき が 3面 だけに色がぬられたつみき



5 個