

積みきを使って

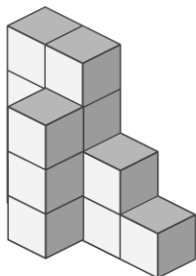
年 組 名前

/ 2

■ 外から色をぬったときに、3面 だけに色がぬられている積みきは何個でしょう。

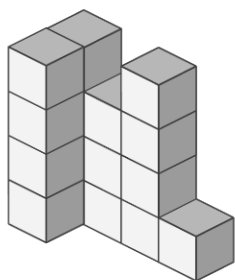
ただし、色は下からはぬらないものとします。

①



個

②



個

つみきを使って

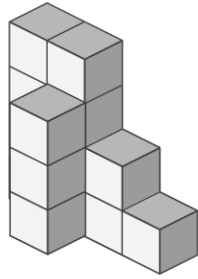
年 組 名前

/ 2

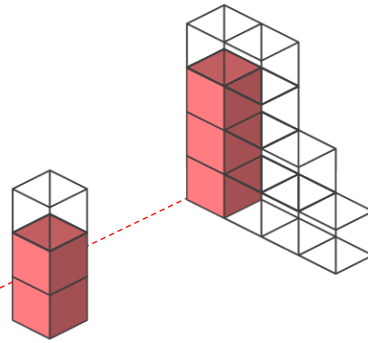
■ 外から色をぬったときに、3面 だけに色がぬられている つみきは何個でしょう。

ただし、色は 下からはぬらないものとします。

①

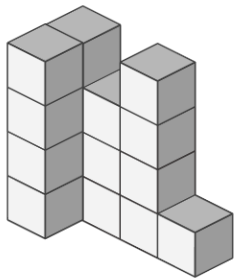


赤色で示した つみき が 3面 だけに色がぬられたつみき

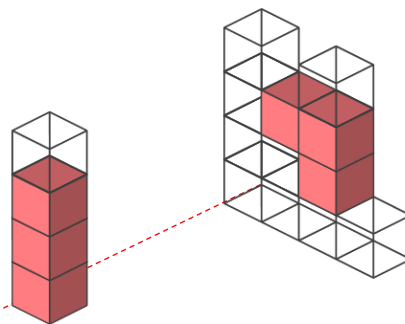


5 個

②



赤色で示した つみき が 3面 だけに色がぬられたつみき



6 個