

てんびんをつかって

年 組 名前

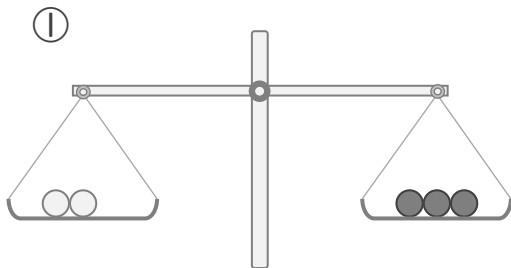
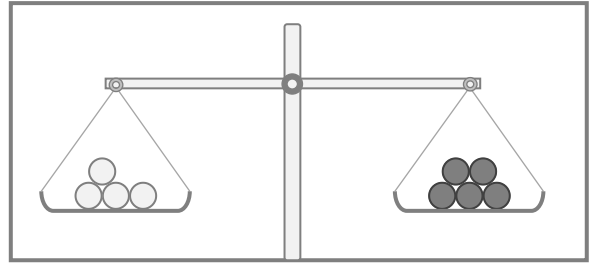
/ 4

1 4この白い玉と、5この黒い玉のおもさが

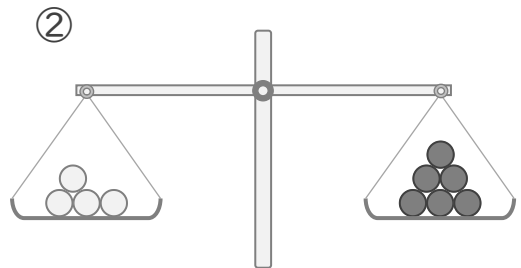
同じで、てんびんがつりあっています。

①, ②の図を見て、てんびんのうごきとして

正しいものに、丸(O)をかきましょう。



左が下がる () (左がおもい)
 つりあう () (同じおもさ)
 右が下がる () (右がおもい)



左が下がる () (左がおもい)
 つりあう () (同じおもさ)
 右が下がる () (右がおもい)

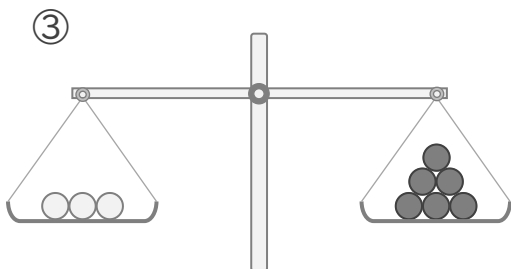
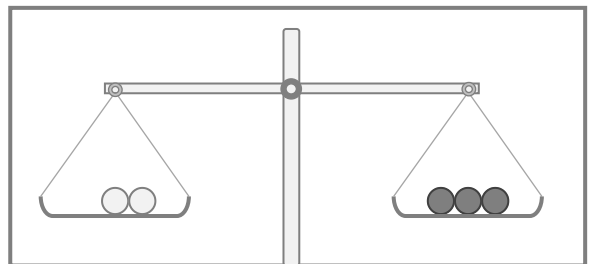
ここで問題がかわります

2 2この白い玉と、3この黒い玉のおもさが

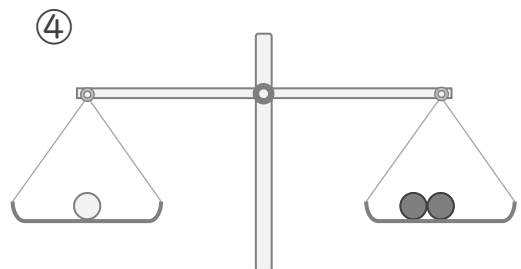
同じで、てんびんがつりあっています。

③, ④の図を見て、てんびんのうごきとして

正しいものに、丸(O)をかきましょう。



左が下がる () (左がおもい)
 つりあう () (同じおもさ)
 右が下がる () (右がおもい)



左が下がる () (左がおもい)
 つりあう () (同じおもさ)
 右が下がる () (右がおもい)

てんびんをつかって

年 組 名前

/ 4