

# てんびんをつかって

年 組 名前

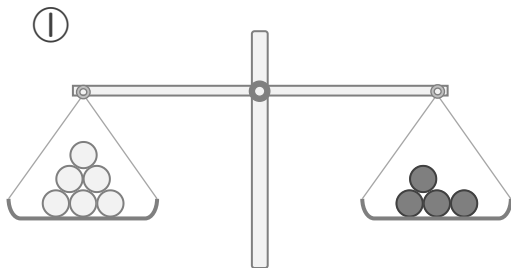
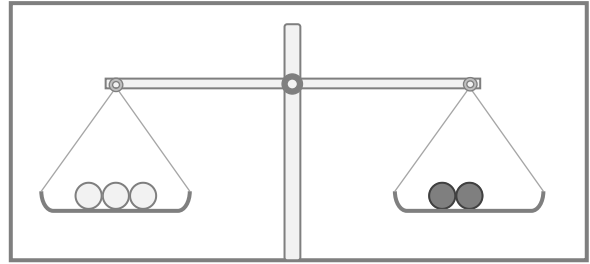
/ 4

1 3この白い玉と、2この黒い玉のおもさが

同じで、てんびんがつりあっています。

①, ②の図を見て、てんびんのうごきとして

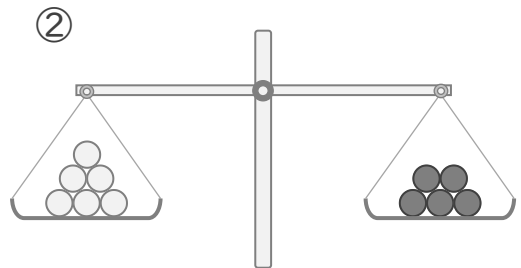
正しいものに、丸(O)をかきましょう。



左が下がる ( )  
(左がおもい)

つりあう ( )  
(同じおもさ)

右が下がる ( )  
(右がおもい)



左が下がる ( )  
(左がおもい)

つりあう ( )  
(同じおもさ)

右が下がる ( )  
(右がおもい)

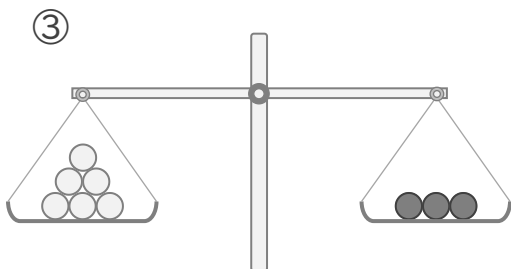
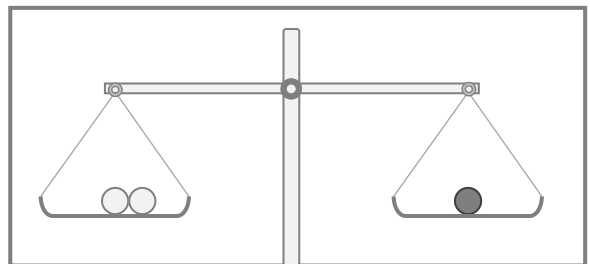
ここで問題がかわります

2 2この白い玉と、1この黒い玉のおもさが

同じで、てんびんがつりあっています。

③, ④の図を見て、てんびんのうごきとして

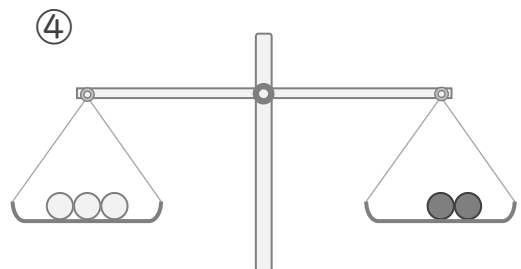
正しいものに、丸(O)をかきましょう。



左が下がる ( )  
(左がおもい)

つりあう ( )  
(同じおもさ)

右が下がる ( )  
(右がおもい)



左が下がる ( )  
(左がおもい)

つりあう ( )  
(同じおもさ)

右が下がる ( )  
(右がおもい)

てんびんをつかって

年 組 名前

/ 4