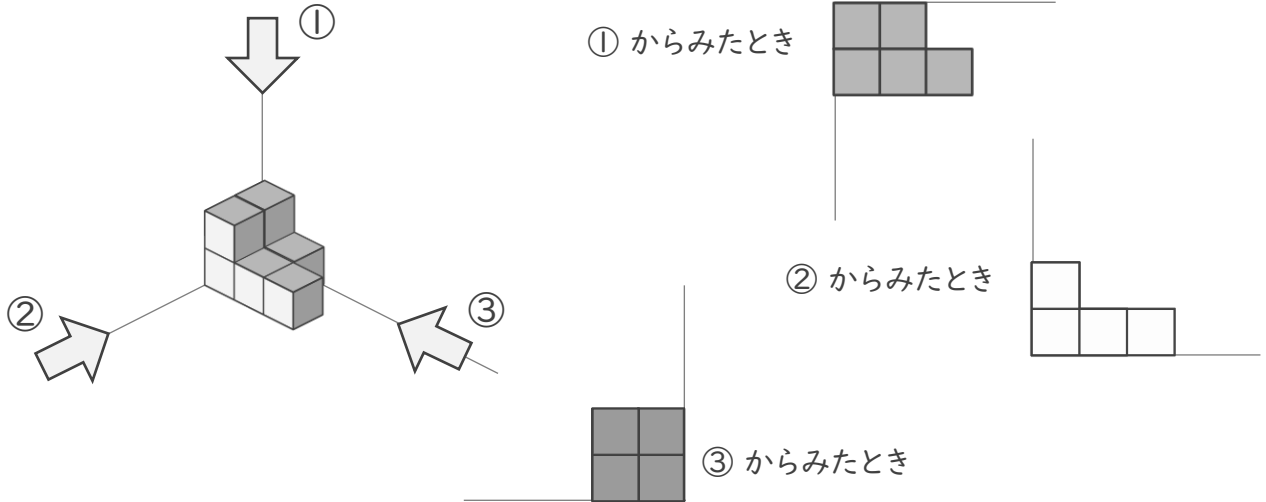
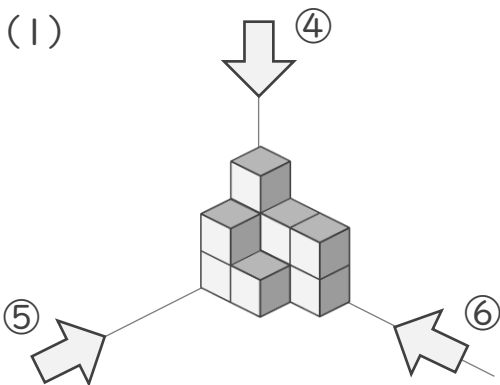


つみきをつかって

■ ①, ②, ③ のむきからみたとき、つみきはつぎのように見えます。



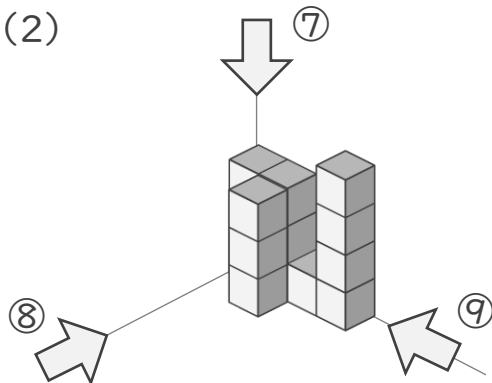
つぎの(1)、(2)を④～⑨のむきからみたとき、みえるつみきはそれぞれなんこでしょう。



④からみたとき

⑤からみたとき

⑥からみたとき



⑦からみたとき

⑧からみたとき

⑨からみたとき

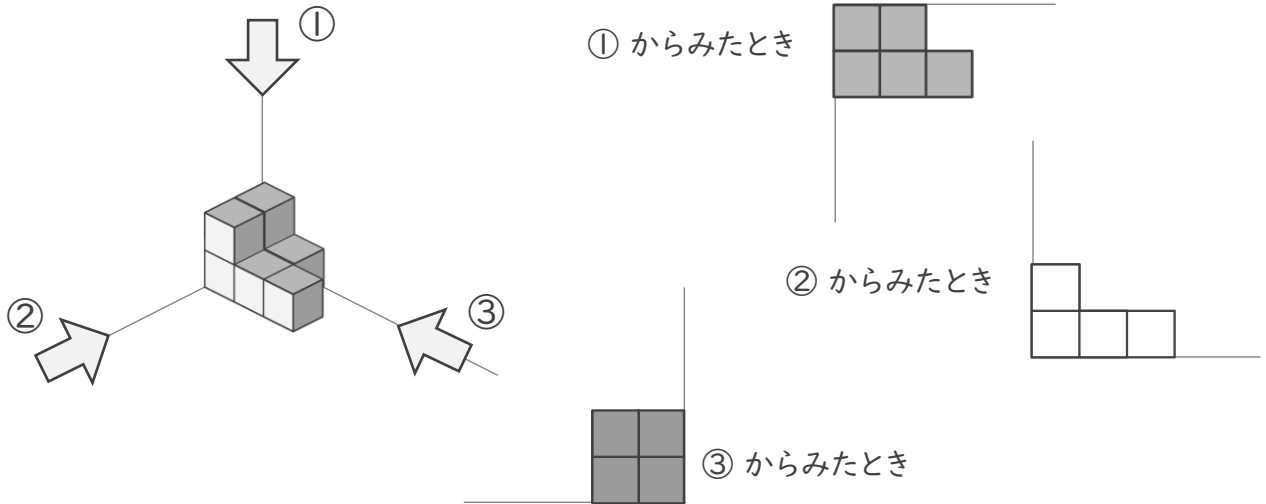
積みきをつかって

ねん くみ

なまえ

/ 6

■ ①, ②, ③ のむきからみたとき、積みきはつぎのようにみえます。



つぎの(1)、(2)を④～⑨のむきからみたとき、みえる積みきはそれぞれなんこでしょう。

