

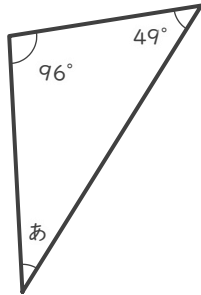
三角形の角の大きさ

年 組 名前

/ 9

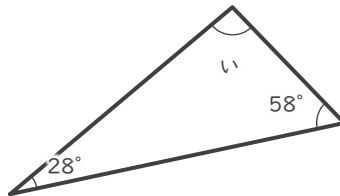
■ つぎの三角形の あ～け の角の大きさを答えましょう。

①



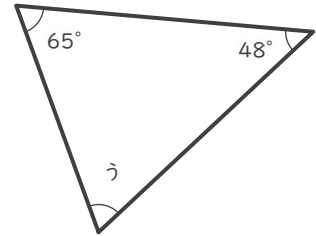
あ

②



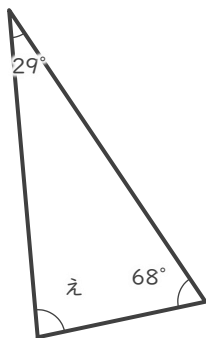
い

③



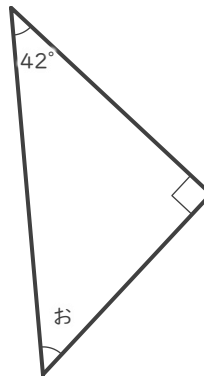
う

④



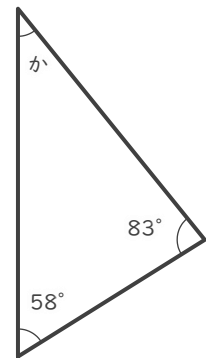
え

⑤



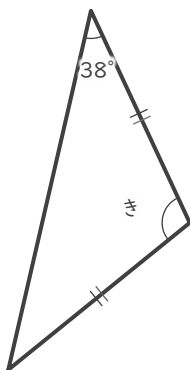
お

⑥



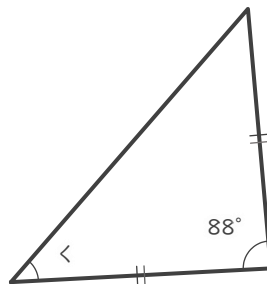
か

⑦



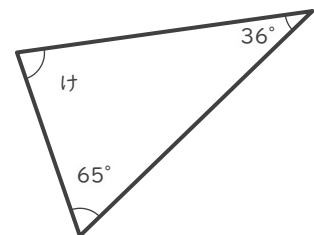
き

⑧



<

⑨



け

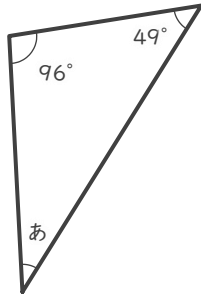
三角形の角の大きさ

年 組 名前

/ 9

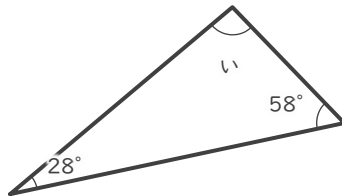
■ つぎの三角形の あ ~ け の角の大きさを答えましょう。

①



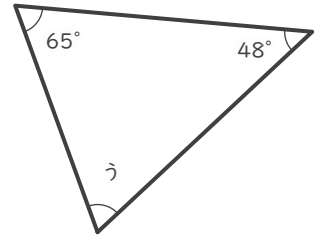
あ 35°

②



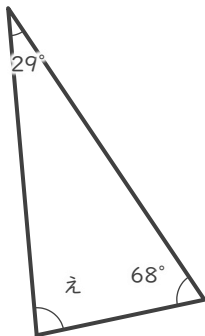
い 94°

③



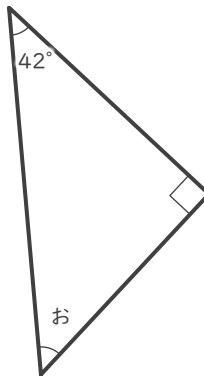
う 67°

④



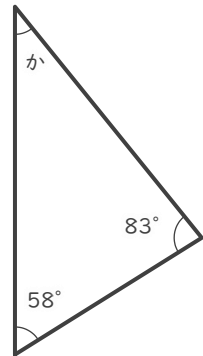
え 83°

⑤



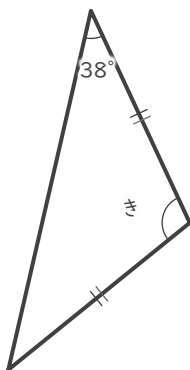
お 48°

⑥



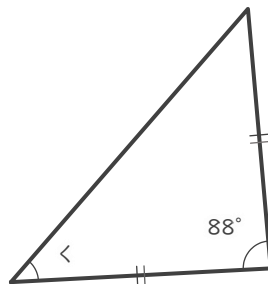
か 39°

⑦



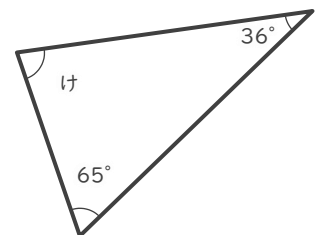
き 104°

⑧



< 46°

⑨



け 79°