

# 合同な三角形

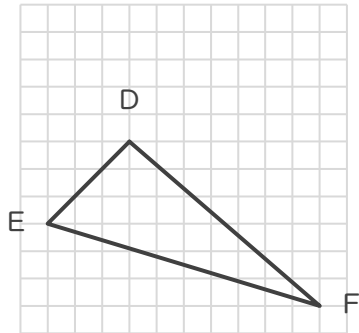
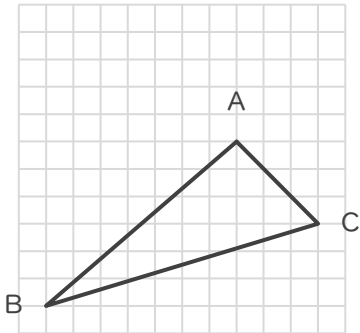
年 組 名前

19

■ 次の①～③であげられた2つずつの三角形は、それぞれ合同な三角形です。

角A～Cに対応する角をそれぞれ答えましょう。

①



角Aに対応する角

角

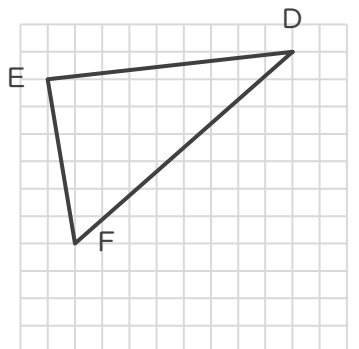
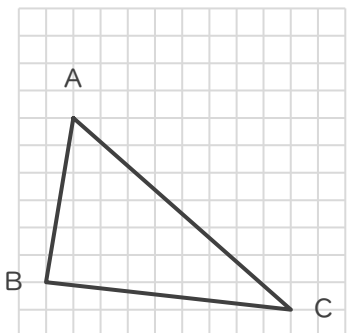
角Bに対応する角

角

角Cに対応する角

角

②



角Aに対応する角

角

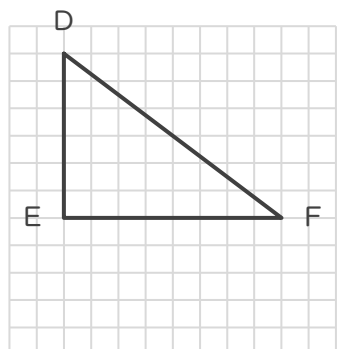
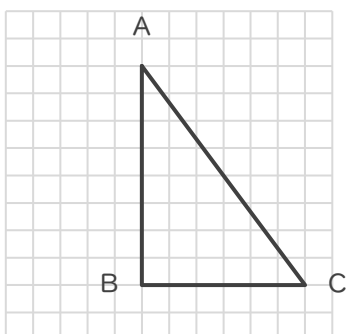
角Bに対応する角

角

角Cに対応する角

角

③



角Aに対応する角

角

角Bに対応する角

角

角Cに対応する角

角

# 合同な三角形

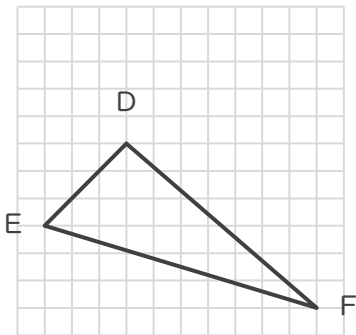
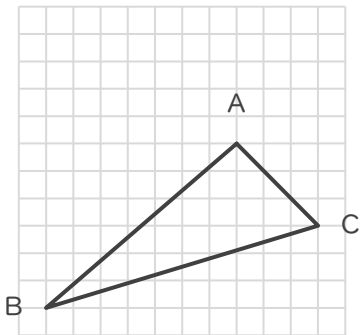
年 組 名前

/ 9

■ 次の①～③であげられた2つずつの三角形は、それぞれ合同な三角形です。

角A～Cに対応する角をそれぞれ答えましょう。

①



角Aに対応する角

角 **D**

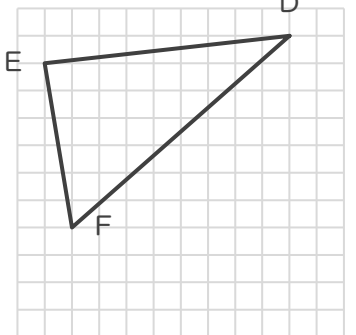
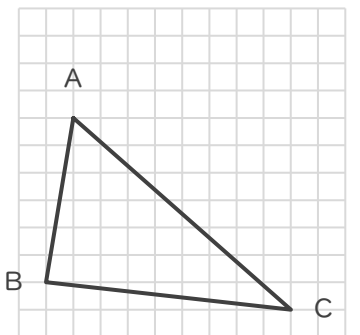
角Bに対応する角

角 **F**

角Cに対応する角

角 **E**

②



角Aに対応する角

角 **F**

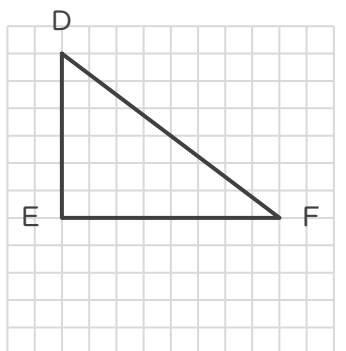
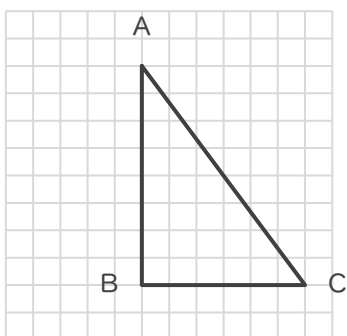
角Bに対応する角

角 **E**

角Cに対応する角

角 **D**

③



角Aに対応する角

角 **F**

角Bに対応する角

角 **E**

角Cに対応する角

角 **D**