

合同な三角形

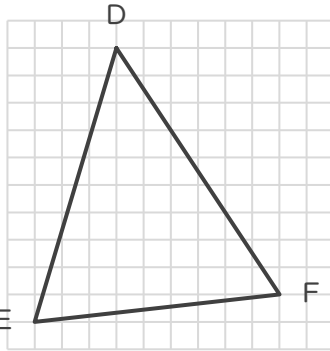
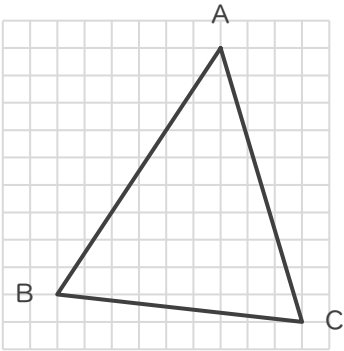
年 組 名前

19

■ 次の①～③であげられた2つずつの三角形は、それぞれ合同な三角形です。

角A～Cに対応する角をそれぞれ答えましょう。

①



角Aに対応する角

角

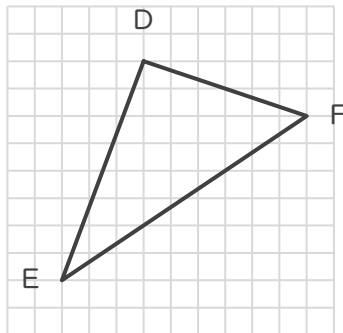
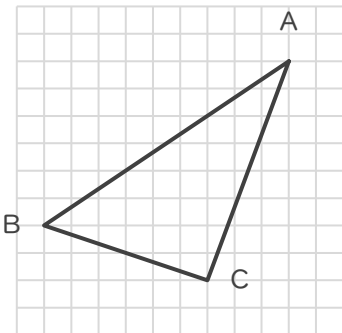
角Bに対応する角

角

角Cに対応する角

角

②



角Aに対応する角

角

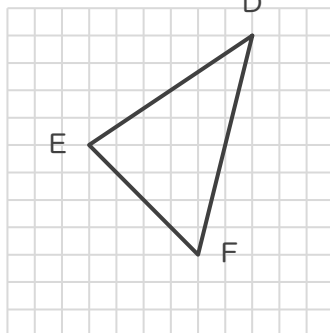
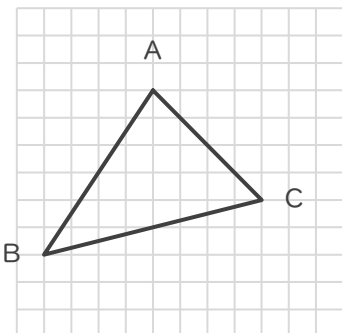
角Bに対応する角

角

角Cに対応する角

角

③



角Aに対応する角

角

角Bに対応する角

角

角Cに対応する角

角

合同な三角形

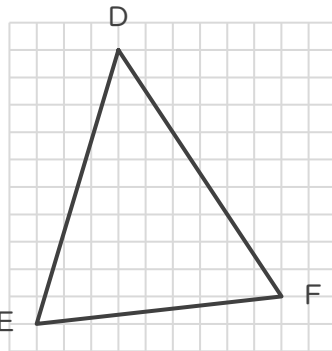
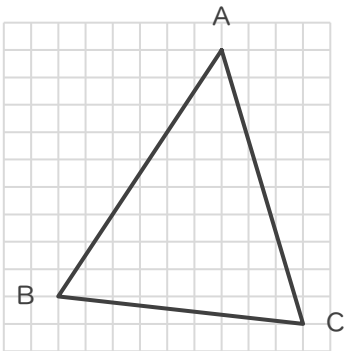
年 組 名前

19

■ 次の①～③であげられた2つずつの三角形は、それぞれ合同な三角形です。

角A～Cに対応する角をそれぞれ答えましょう。

①



角Aに対応する角

角 D

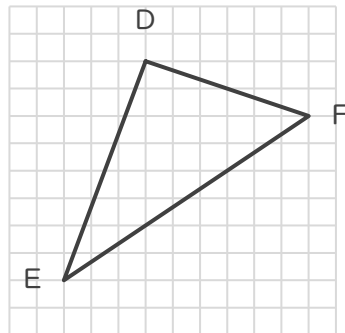
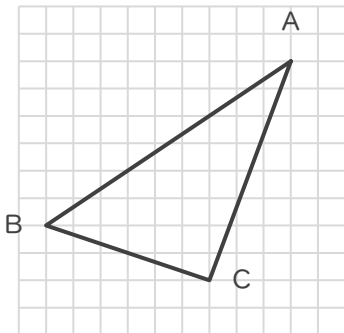
角Bに対応する角

角 F

角Cに対応する角

角 E

②



角Aに対応する角

角 F

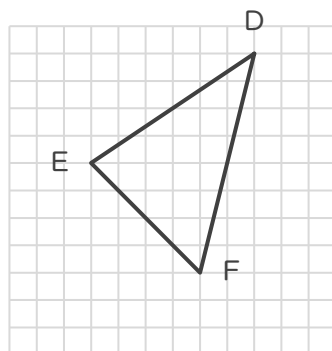
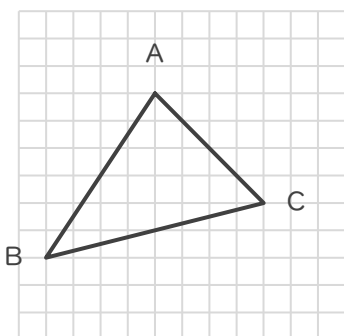
角Bに対応する角

角 D

角Cに対応する角

角 E

③



角Aに対応する角

角 E

角Bに対応する角

角 D

角Cに対応する角

角 F