

# 合同な三角形

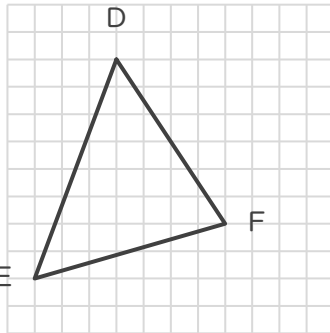
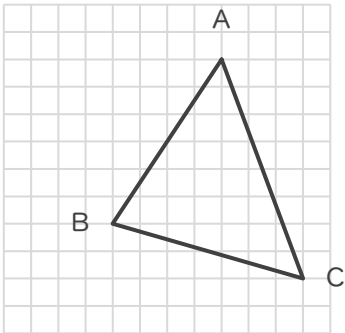
年 組 名前

/ 6

■ 次の①～③であげられた2つずつの三角形は、それぞれ合同な三角形です。

指示された辺に対応する辺をそれぞれ答えましょう。

①



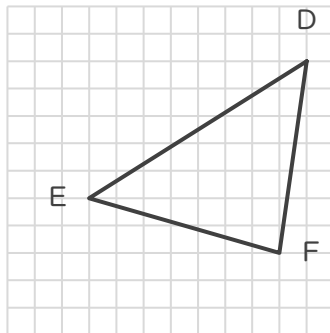
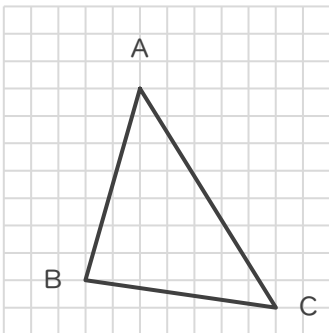
辺ABに対応する辺

辺

辺BCに対応する辺

辺

②



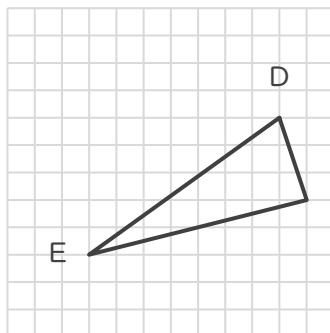
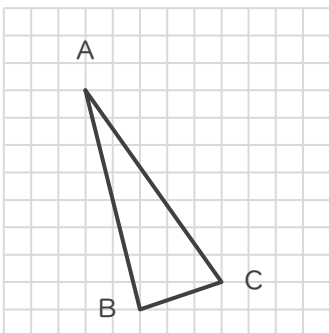
辺BAに対応する辺

辺

辺BCに対応する辺

辺

③



辺BCに対応する辺

辺

辺BAに対応する辺

辺

# 合同な三角形

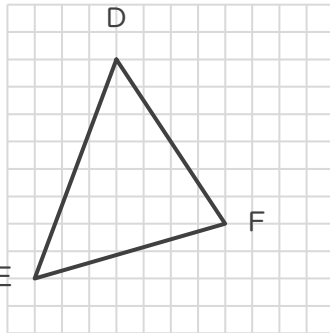
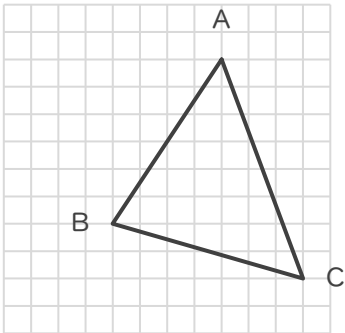
年 組 名前

/ 6

■ 次の①～③であげられた2つずつの三角形は、それぞれ合同な三角形です。

指示された辺に対応する辺をそれぞれ答えましょう。

①



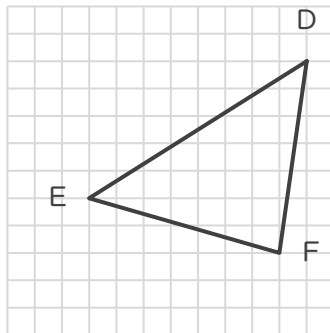
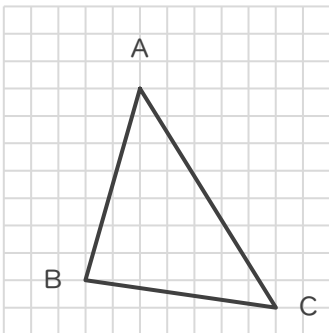
辺ABに対応する辺

辺 **DF**

辺BCに対応する辺

辺 **FE**

②



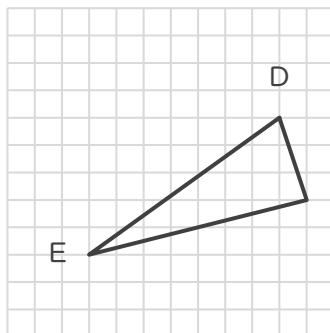
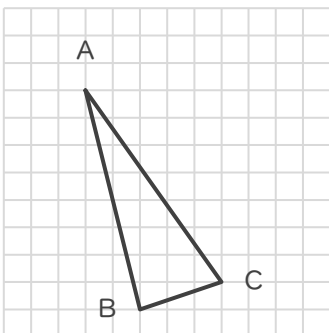
辺BAに対応する辺

辺 **FE**

辺BCに対応する辺

辺 **FD**

③



辺BCに対応する辺

辺 **FD**

辺BAに対応する辺

辺 **FE**