

合同な三角形

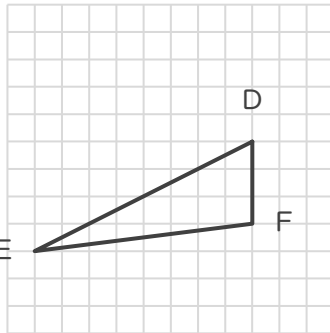
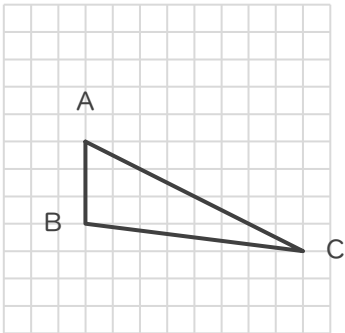
年 組 名前

/ 6

■ 次の①～③であげられた2つずつの三角形は、それぞれ合同な三角形です。

指示された辺に対応する辺をそれぞれ答えましょう。

①



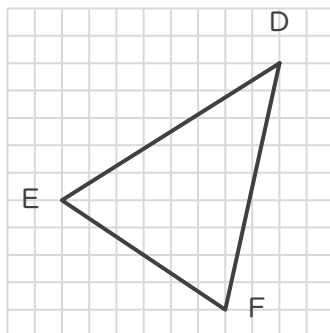
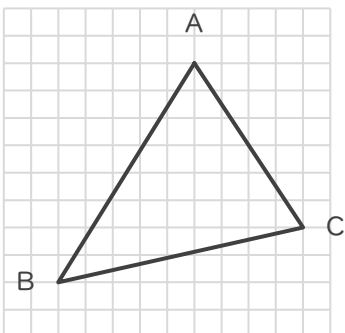
辺BC に対応する辺

辺

辺CA に対応する辺

辺

②



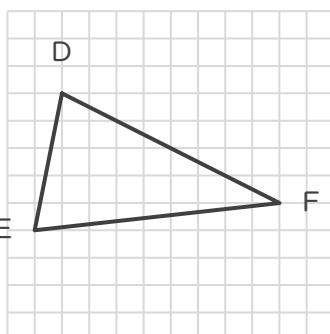
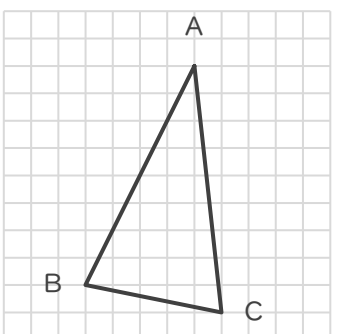
辺BC に対応する辺

辺

辺AB に対応する辺

辺

③



辺CB に対応する辺

辺

辺CA に対応する辺

辺

合同な三角形

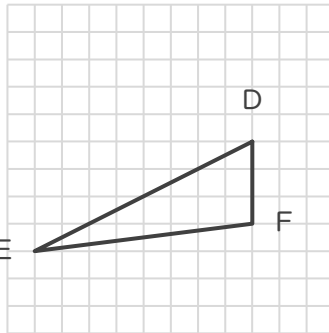
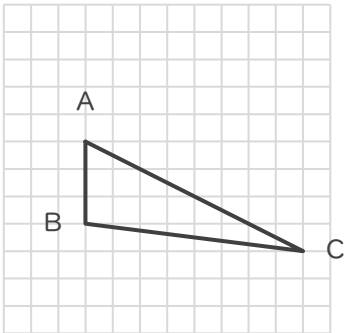
年 組 名前

/ 6

■ 次の①～③であげられた2つずつの三角形は、それぞれ合同な三角形です。

指示された辺に対応する辺をそれぞれ答えましょう。

①



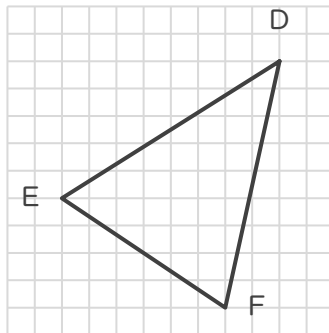
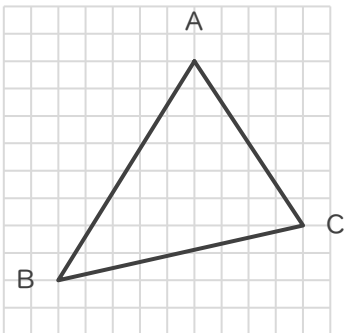
辺BCに対応する辺

辺 FE

辺CAに対応する辺

辺 ED

②



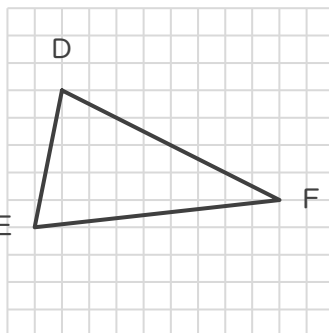
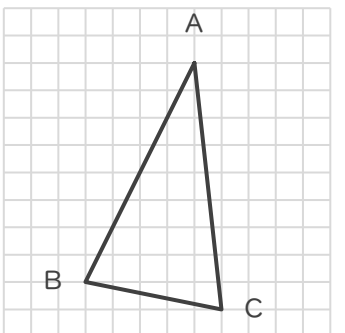
辺BCに対応する辺

辺 DF

辺ABに対応する辺

辺 ED

③



辺CBに対応する辺

辺 ED

辺CAに対応する辺

辺 EF