

合同な三角形

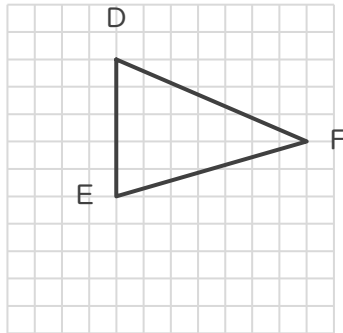
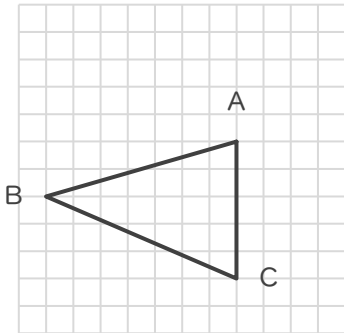
年 組 名前

/ 6

■ 次の①～③であげられた2つずつの三角形は、それぞれ合同な三角形です。

指示された辺に対応する辺をそれぞれ答えましょう。

①



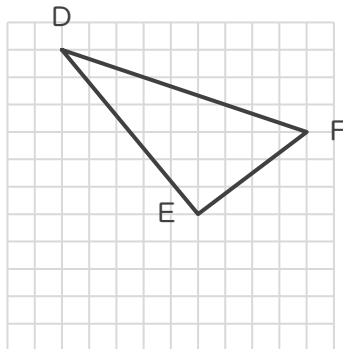
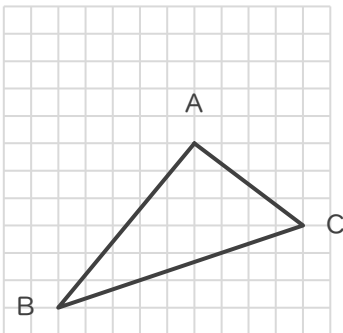
辺ABに対応する辺

辺

辺CAに対応する辺

辺

②



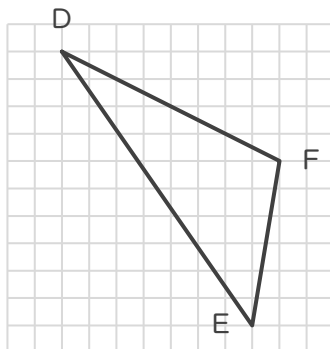
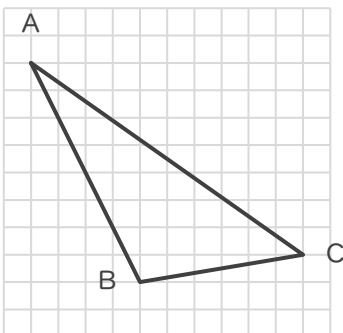
辺ABに対応する辺

辺

辺CAに対応する辺

辺

③



辺ABに対応する辺

辺

辺BCに対応する辺

辺

合同な三角形

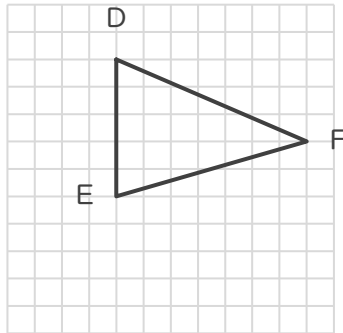
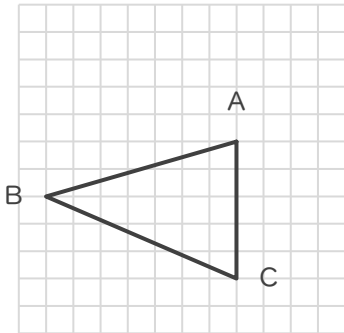
年 組 名前

/ 6

■ 次の①～③であげられた2つずつの三角形は、それぞれ合同な三角形です。

指示された辺に対応する辺をそれぞれ答えましょう。

①



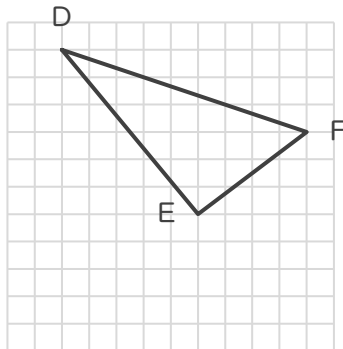
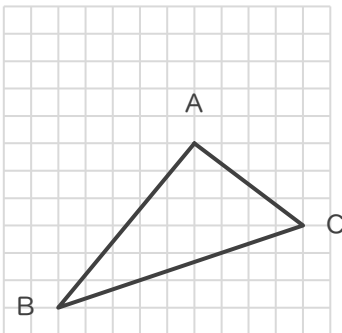
辺ABに対応する辺

辺 EF

辺CAに対応する辺

辺 DE

②



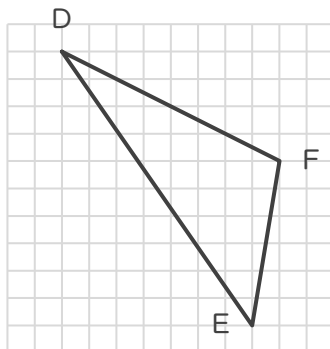
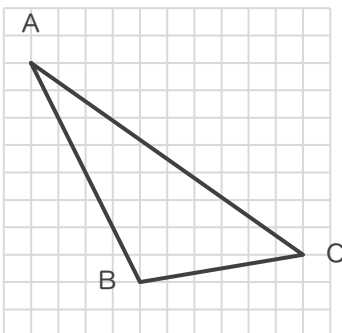
辺ABに対応する辺

辺 ED

辺CAに対応する辺

辺 FE

③



辺ABに対応する辺

辺 DF

辺BCに対応する辺

辺 FE