

合同な三角形

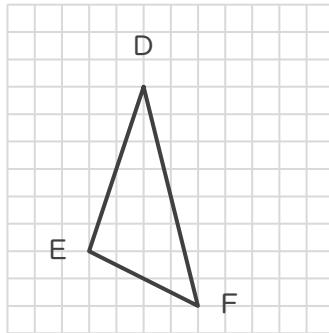
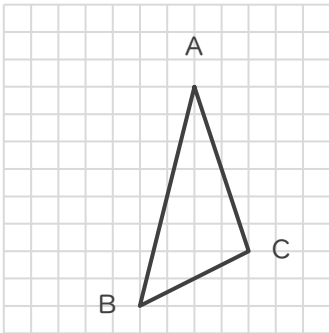
年 組 名前

/ 6

■ 次の①～③であげられた2つずつの三角形は、それぞれ合同な三角形です。

指示された辺に対応する辺をそれぞれ答えましょう。

①



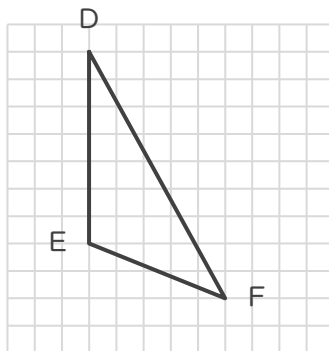
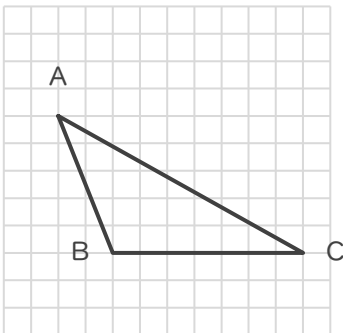
辺CA に対応する辺

辺

辺AB に対応する辺

辺

②



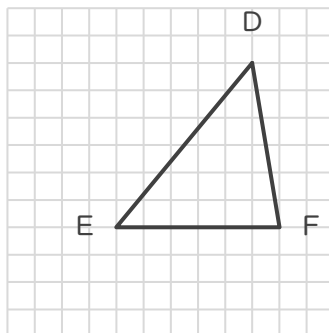
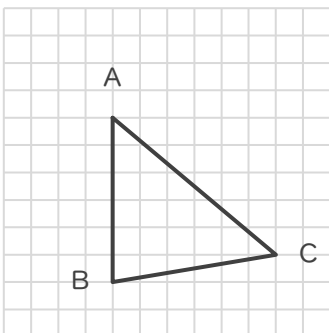
辺AC に対応する辺

辺

辺AB に対応する辺

辺

③



辺CA に対応する辺

辺

辺AB に対応する辺

辺

合同な三角形

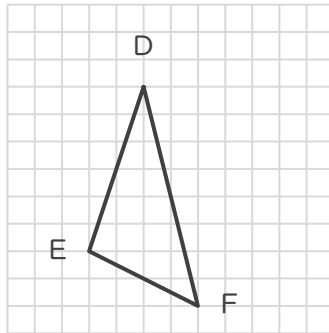
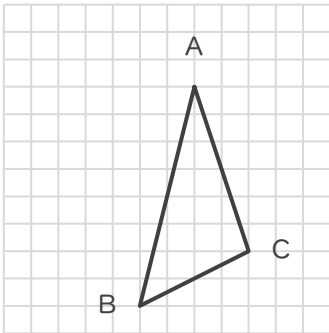
年 組 名前

/ 6

■ 次の①～③であげられた2つずつの三角形は、それぞれ合同な三角形です。

指示された辺に対応する辺をそれぞれ答えましょう。

①



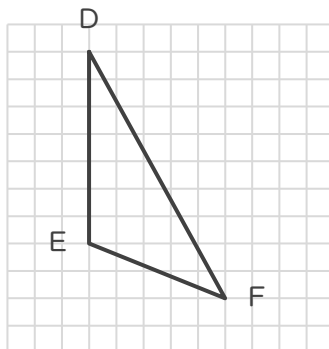
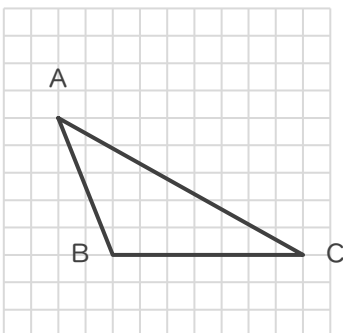
辺CAに対応する辺

辺 **ED**

辺ABに対応する辺

辺 **DF**

②



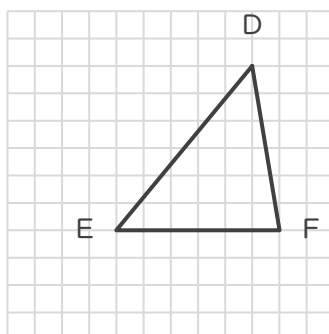
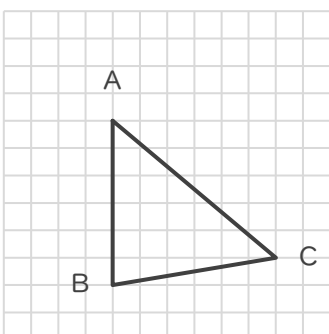
辺ACに対応する辺

辺 **FD**

辺ABに対応する辺

辺 **FE**

③



辺CAに対応する辺

辺 **DE**

辺ABに対応する辺

辺 **EF**