

# 合同な三角形

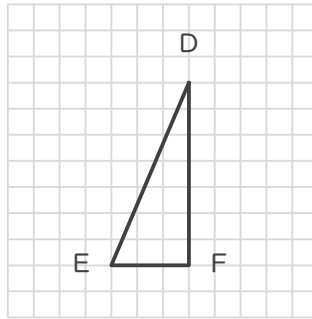
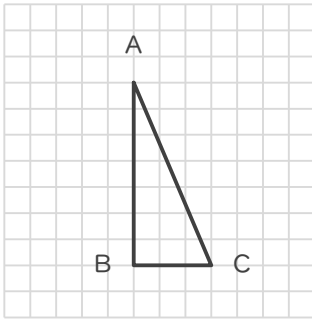
年 組 名前

/ 6

■ 次の①～③であげられた2つずつの三角形は、それぞれ合同な三角形です。

指示された辺に対応する辺をそれぞれ答えましょう。

①



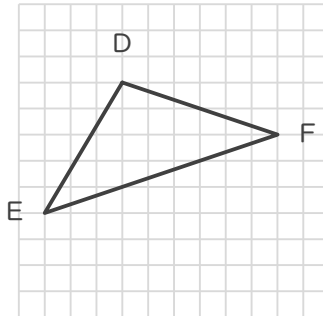
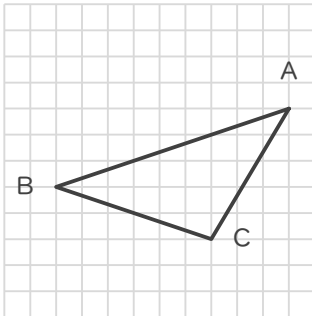
辺CA に対応する辺

辺

辺AB に対応する辺

辺

②



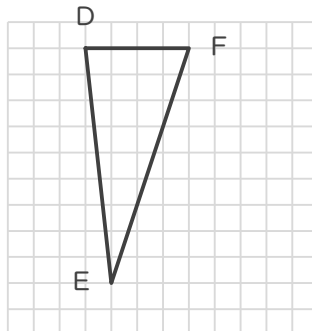
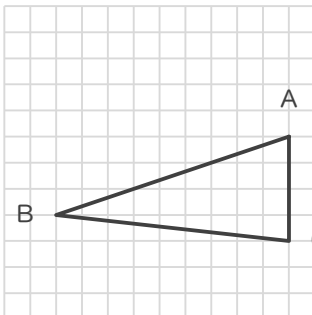
辺AB に対応する辺

辺

辺BC に対応する辺

辺

③



辺BC に対応する辺

辺

辺BA に対応する辺

辺

# 合同な三角形

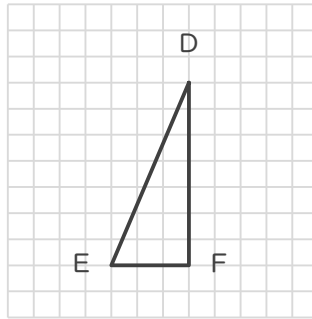
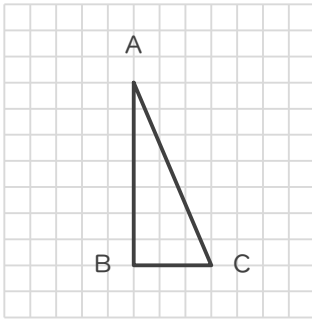
年 組 名前

/ 6

■ 次の①～③であげられた2つずつの三角形は、それぞれ合同な三角形です。

指示された辺に対応する辺をそれぞれ答えましょう。

①



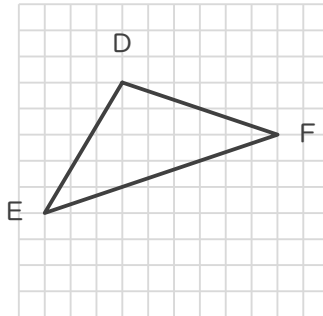
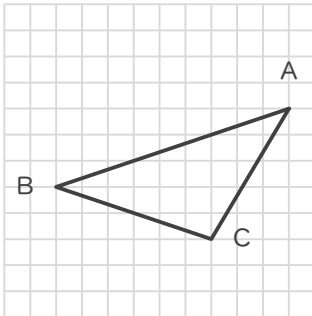
辺CAに対応する辺

辺 ED

辺ABに対応する辺

辺 DF

②



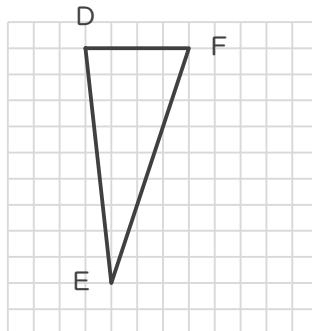
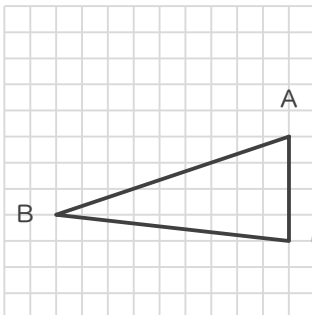
辺ABに対応する辺

辺 EF

辺BCに対応する辺

辺 FD

③



辺BCに対応する辺

辺 ED

辺BAに対応する辺

辺 EF