

合同な三角形

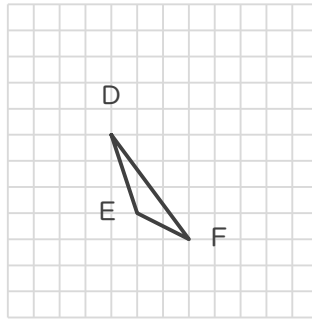
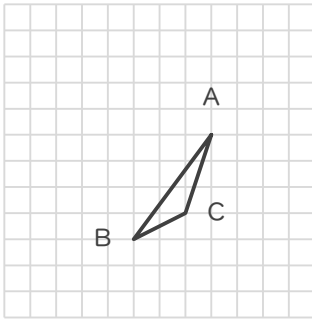
年 組 名前

/ 6

■ 次の①～③であげられた2つずつの三角形は、それぞれ合同な三角形です。

指示された辺に対応する辺をそれぞれ答えましょう。

①



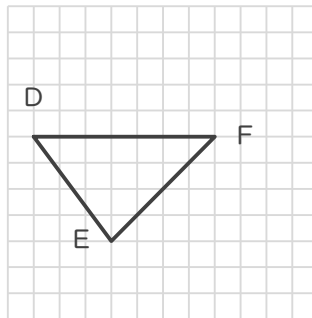
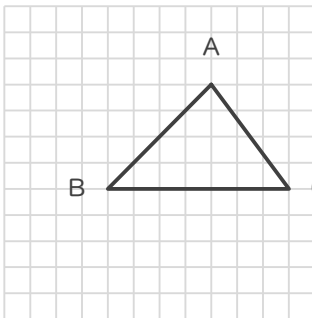
辺AC に対応する辺

辺

辺CB に対応する辺

辺

②



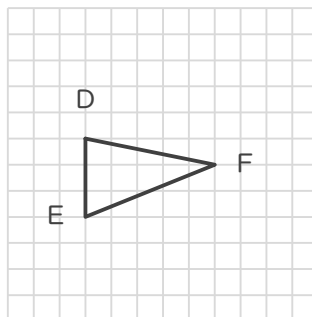
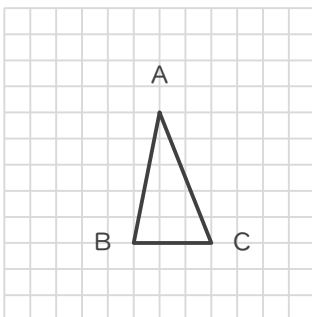
辺BA に対応する辺

辺

辺BC に対応する辺

辺

③



辺CB に対応する辺

辺

辺BA に対応する辺

辺

合同な三角形

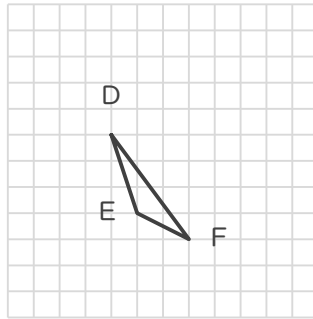
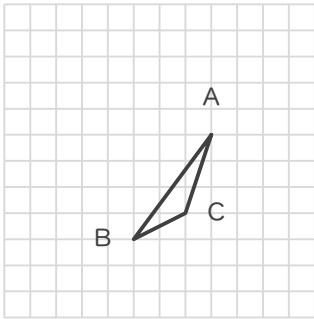
年 組 名前

/ 6

■ 次の①～③であげられた2つずつの三角形は、それぞれ合同な三角形です。

指示された辺に対応する辺をそれぞれ答えましょう。

①



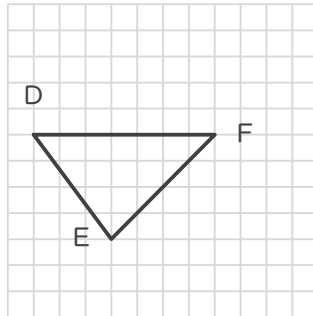
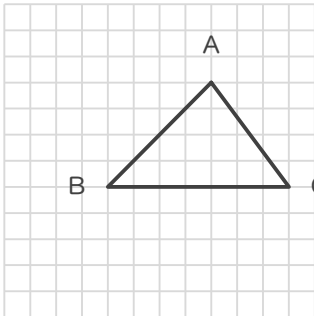
辺AC に対応する辺

辺 DE

辺CB に対応する辺

辺 EF

②



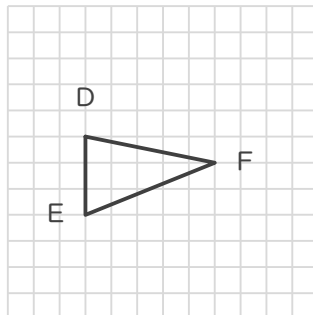
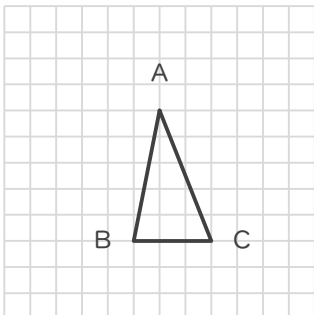
辺BA に対応する辺

辺 FE

辺BC に対応する辺

辺 FD

③



辺CB に対応する辺

辺 ED

辺BA に対応する辺

辺 DF