

時こくと時間

年 組 名前

/12

■ つぎの時こくを 答えましょう。

① 2時15分の 25分前



時 分

② 10時10分の 20分前



時 分

③ 3時5分の 45分前



時 分

④ 7時5分の 15分前



時 分

⑤ 5時10分の 45分前




時 分

⑥ 4時10分の 55分前



時 分

⑦ 11時15分の 35分前




時 分

⑧ 6時20分の 40分前




時 分

⑨ 12時30分の 45分前




時 分

⑩ 8時45分の 55分前




時 分

⑪ 9時30分の 35分前



時 分

⑫ 2時20分の 55分前



時 分

時こくと時間

年 組 名前

/12

■ つぎの時こくを 答えましょう。

① 2時15分の25分前



1 時 50 分

② 10時10分の20分前



9 時 50 分

③ 3時5分の45分前



2 時 20 分

④ 7時5分の15分前



6 時 50 分

⑤ 5時10分の45分前



4 時 25 分

⑥ 4時10分の55分前




3 時 15 分

⑦ 11時15分の35分前



10 時 40 分

⑧ 6時20分の40分前




5 時 40 分

⑨ 12時30分の45分前




11 時 45 分

⑩ 8時45分の55分前



7 時 50 分

⑪ 9時30分の35分前



8 時 55 分

⑫ 2時20分の55分前



1 時 25 分