

# 時こくと時間

年 組 名前

/12

■ つぎの時こくを 答えましょう。

① 4時15分の55分前



時 分

② 8時25分の45分前




時 分

③ 12時25分の30分前



時 分

④ 10時30分の45分前



時 分

⑤ 11時20分の25分前




時 分

⑥ 7時45分の55分前




時 分

⑦ 5時15分の50分前




時 分

⑧ 3時10分の35分前




時 分

⑨ 9時25分の50分前




時 分

⑩ 2時20分の55分前




時 分

⑪ 6時5分の35分前



時 分

⑫ 10時35分の50分前



時 分

# 時こくと時間

年 組 名前

/12

■ つぎの時こくを 答えましょう。

① 4時15分の55分前



3 時 20 分

② 8時25分の45分前



7 時 40 分

③ 12時25分の30分前



11 時 55 分

④ 10時30分の45分前



9 時 45 分

⑤ 11時20分の25分前




10 時 55 分

⑥ 7時45分の55分前




6 時 50 分

⑦ 5時15分の50分前




4 時 25 分

⑧ 3時10分の35分前




2 時 35 分

⑨ 9時25分の50分前




8 時 35 分

⑩ 2時20分の55分前




1 時 25 分

⑪ 6時5分の35分前



5 時 30 分

⑫ 10時35分の50分前



9 時 45 分