

時こくと時間

年 組 名前

/12

■ つぎの時こくを 答えましょう。

① 3時20分の 50分前



時 分

② 11時10分の 35分前



時 分

③ 10時10分の 25分前



時 分

④ 12時10分の 55分前



時 分

⑤ 2時5分の 20分前



時 分

⑥ 9時10分の 40分前




時 分

⑦ 5時5分の 45分前




時 分

⑧ 8時30分の 40分前




時 分

⑨ 4時15分の 50分前




時 分

⑩ 7時25分の 35分前




時 分

⑪ 6時25分の 40分前



時 分

⑫ 10時20分の 25分前



時 分

時こくと時間

年 組 名前

/12

■ つぎの時こくを 答えましょう。

① 3時20分の50分前



2 時 30 分

② 11時10分の35分前



10 時 35 分

③ 10時10分の25分前



9 時 45 分

④ 12時10分の55分前



11 時 15 分

⑤ 2時5分の20分前



1 時 45 分

⑥ 9時10分の40分前




8 時 30 分

⑦ 5時5分の45分前




4 時 20 分

⑧ 8時30分の40分前




7 時 50 分

⑨ 4時15分の50分前




3 時 25 分

⑩ 7時25分の35分前




6 時 50 分

⑪ 6時25分の40分前



5 時 45 分

⑫ 10時20分の25分前



9 時 55 分