

# 時こくと時間

年 組 名前

/12

■ つぎの時こくを 答えましょう。

① 3時20分の 35分前



時 分

② 2時25分の 55分前



時 分

③ 10時10分の 55分前



時 分

④ 12時30分の 45分前




時 分

⑤ 8時20分の 50分前



時 分

⑥ 7時30分の 35分前



時 分

⑦ 9時10分の 25分前




時 分

⑧ 11時10分の 30分前




時 分

⑨ 6時25分の 40分前




時 分

⑩ 5時35分の 50分前




時 分

⑪ 4時15分の 40分前



時 分

⑫ 10時35分の 40分前



時 分

# 時こくと時間

年 組 名前

/12

■ つぎの時こくを 答えましょう。

① 3時20分の35分前



2 時 45 分

② 2時25分の55分前



1 時 30 分

③ 10時10分の55分前



9 時 15 分

④ 12時30分の45分前



11 時 45 分

⑤ 8時20分の50分前



7 時 30 分

⑥ 7時30分の35分前



6 時 55 分

⑦ 9時10分の25分前



8 時 45 分

⑧ 11時10分の30分前




10 時 40 分

⑨ 6時25分の40分前




5 時 45 分

⑩ 5時35分の50分前




4 時 45 分

⑪ 4時15分の40分前



3 時 35 分

⑫ 10時35分の40分前



9 時 55 分