

# 時こくと時間

年 組 名前

/12

■ つぎの時こくを 答えましょう。

① 11時30分の35分前



時 分

② 5時5分の15分前



時 分

③ 9時35分の45分前



時 分

④ 7時15分の55分前




時 分

⑤ 3時10分の35分前



時 分

⑥ 4時10分の50分前



時 分

⑦ 10時10分の30分前



時 分

⑧ 6時5分の35分前



時 分

⑨ 2時10分の15分前



時 分

⑩ 8時25分の45分前



時 分

⑪ 12時5分の10分前



時 分

⑫ 6時20分の50分前



時 分


# 時こくと時間

年 組 名前

/12

■ つぎの時こくを 答えましょう。

① 11時30分の35分前



10 時 55 分

② 5時5分の15分前



4 時 50 分

③ 9時35分の45分前



8 時 50 分

④ 7時15分の55分前



6 時 20 分

⑤ 3時10分の35分前




2 時 35 分

⑥ 4時10分の50分前




3 時 20 分

⑦ 10時10分の30分前




9 時 40 分

⑧ 6時5分の35分前




5 時 30 分

⑨ 2時10分の15分前




1 時 55 分

⑩ 8時25分の45分前




7 時 40 分

⑪ 12時5分の10分前



11 時 55 分

⑫ 6時20分の50分前



5 時 30 分