

# 時こくと時間

年 組 名前

/12

■ つぎの時こくを 答えましょう。

① 12時10分の40分前



時 分

② 10時20分の45分前



時 分

③ 4時30分の50分前



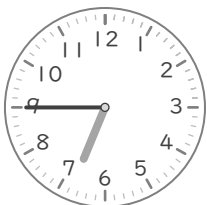
時 分

④ 9時40分の55分前




時 分

⑤ 6時45分の50分前




時 分

⑥ 7時30分の40分前



時 分

⑦ 5時15分の35分前



時 分

⑧ 2時5分の40分前



時 分

⑨ 3時20分の25分前




時 分

⑩ 8時5分の15分前




時 分

⑪ 11時15分の55分前



時 分

⑫ 6時15分の25分前



時 分

# 時こくと時間

年 組 名前

/12

■ つぎの時こくを 答えましょう。

① 12時10分の40分前



11 時 30 分

② 10時20分の45分前



9 時 35 分

③ 4時30分の50分前



3 時 40 分

④ 9時40分の55分前



8 時 45 分

⑤ 6時45分の50分前




5 時 55 分

⑥ 7時30分の40分前



6 時 50 分

⑦ 5時15分の35分前



4 時 40 分

⑧ 2時5分の40分前



1 時 25 分

⑨ 3時20分の25分前




2 時 55 分

⑩ 8時5分の15分前




7 時 50 分

⑪ 11時15分の55分前



10 時 20 分

⑫ 6時15分の25分前



5 時 50 分