

時こくと時間

年 組 名前

/12

■ つぎの時こくを 答えましょう。

① 12時15分の50分前



時 分

② 3時15分の40分前



時 分

③ 11時20分の40分前



時 分

④ 9時5分の15分前



時 分

⑤ 5時25分の30分前




時 分

⑥ 7時25分の55分前




時 分

⑦ 10時20分の50分前




時 分

⑧ 4時40分の50分前




時 分

⑨ 8時40分の55分前




時 分

⑩ 2時5分の20分前




時 分

⑪ 6時35分の40分前



時 分

⑫ 6時10分の20分前



時 分

時こくと時間

年 組 名前

/12

■ つぎの時こくを 答えましょう。

① 12時15分の50分前



11 時 25 分

② 3時15分の40分前



2 時 35 分

③ 11時20分の40分前



10 時 40 分

④ 9時5分の15分前



8 時 50 分

⑤ 5時25分の30分前



4 時 55 分

⑥ 7時25分の55分前




6 時 30 分

⑦ 10時20分の50分前



9 時 30 分

⑧ 4時40分の50分前



3 時 50 分

⑨ 8時40分の55分前



7 時 45 分

⑩ 2時5分の20分前




1 時 45 分

⑪ 6時35分の40分前



5 時 55 分

⑫ 6時10分の20分前



5 時 50 分