

時こくと時間

年 組 名前

/12


■ つぎの時こくを 答えましょう。

① 12時20分の50分前




時 分

⑦ 7時30分の55分前




時 分

② 10時35分の40分前



時 分

⑧ 11時10分の25分前




時 分

③ 8時30分の35分前



時 分

⑨ 6時25分の50分前



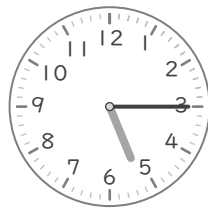
時 分

④ 3時10分の55分前



時 分

⑩ 5時15分の35分前




時 分

⑤ 4時25分の45分前



時 分

⑪ 9時40分の45分前



時 分

⑥ 2時20分の40分前



時 分

⑫ 3時25分の40分前



時 分

時こくと時間

年 組 名前

/12

■ つぎの時こくを 答えましょう。

① 12時20分の50分前



11 時 30 分

② 10時35分の40分前



9 時 55 分

③ 8時30分の35分前



7 時 55 分

④ 3時10分の55分前



2 時 15 分

⑤ 4時25分の45分前




3 時 40 分

⑥ 2時20分の40分前



1 時 40 分

⑦ 7時30分の55分前




6 時 35 分

⑧ 11時10分の25分前



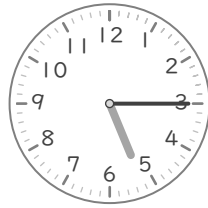
10 時 45 分

⑨ 6時25分の50分前




5 時 35 分

⑩ 5時15分の35分前



4 時 40 分

⑪ 9時40分の45分前



8 時 55 分

⑫ 3時25分の40分前



2 時 45 分