

# 時こくと時間

年 組 名前

/12

■ つぎの時こくを 答えましょう。

① 9時10分の 20分前



時 分

② 4時30分の 45分前



時 分

③ 6時50分の 55分前



時 分

④ 10時5分の 25分前



時 分

⑤ 11時10分の 40分前



時 分

⑥ 7時15分の 25分前




時 分

⑦ 2時25分の 45分前




時 分

⑧ 3時5分の 15分前




時 分

⑨ 12時15分の 20分前




時 分

⑩ 8時10分の 15分前




時 分

⑪ 5時5分の 55分前



時 分

⑫ 7時25分の 50分前



時 分

# 時こくと時間

年 組 名前

/12

■ つぎの時こくを 答えましょう。

① 9時10分の 20分前



8 時 50 分

② 4時30分の 45分前



3 時 45 分

③ 6時50分の 55分前



5 時 55 分

④ 10時5分の 25分前



9 時 40 分

⑤ 11時10分の 40分前



10 時 30 分

⑥ 7時15分の 25分前




6 時 50 分

⑦ 2時25分の 45分前




1 時 40 分

⑧ 3時5分の 15分前




2 時 50 分

⑨ 12時15分の 20分前




11 時 55 分

⑩ 8時10分の 15分前




7 時 55 分

⑪ 5時5分の 55分前



4 時 10 分

⑫ 7時25分の 50分前



6 時 35 分