

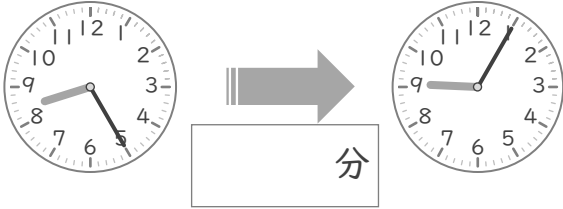
時こくと時間

年 組 名前

/10

■ つぎの 2つの 時こくの 間の時間を 答えましょう。

① 8時25分 と 9時5分



⑥ 7時50分 と 8時30分



② 6時50分 と 7時35分



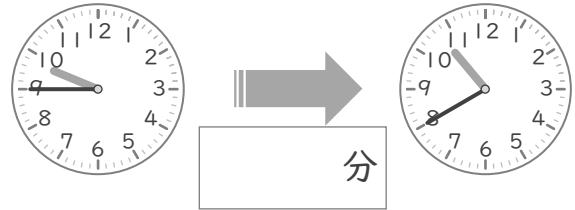
⑦ 4時40分 と 5時10分



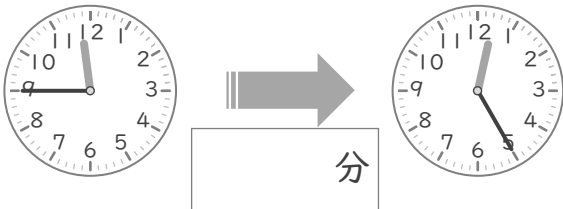
③ 3時55分 と 4時25分



⑧ 9時45分 と 10時40分



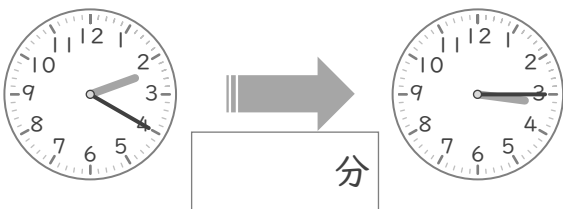
④ 11時45分 と 12時25分



⑨ 10時55分 と 11時50分



⑤ 2時20分 と 3時15分



⑩ 1時55分 と 2時10分



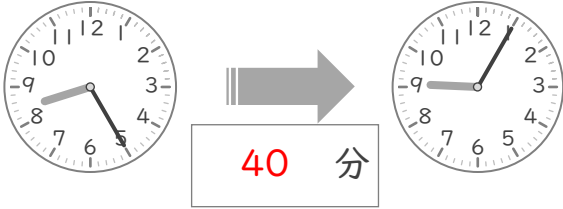
時こくと時間

年 組 名前

/10

■ つぎの 2つの 時こくの 間の時間を 答えましょう。

① 8時25分 と 9時5分



⑥ 7時50分 と 8時30分



② 6時50分 と 7時35分



⑦ 4時40分 と 5時10分



③ 3時55分 と 4時25分



⑧ 9時45分 と 10時40分



④ 11時45分 と 12時25分



⑨ 10時55分 と 11時50分



⑤ 2時20分 と 3時15分



⑩ 1時55分 と 2時10分

