

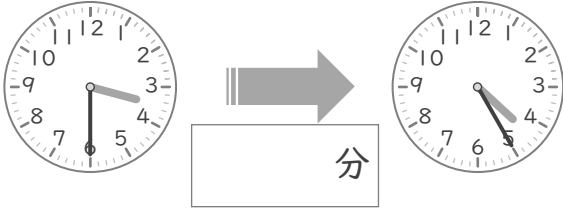
時こくと時間

年 組 名前

/10

■ つぎの 2つの 時こくの 間の時間を 答えましょう。

① 3時30分 と 4時25分



⑥ 1時35分 と 2時5分



② 10時50分 と 11時40分



⑦ 9時40分 と 10時5分



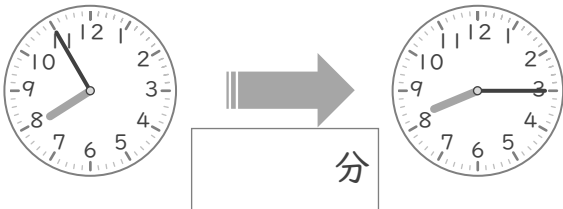
③ 6時35分 と 7時25分



⑧ 8時55分 と 9時25分



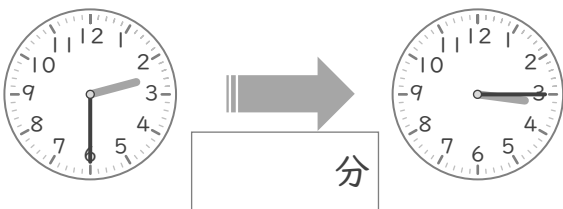
④ 7時55分 と 8時15分



⑨ 11時40分 と 12時20分



⑤ 2時30分 と 3時15分



⑩ 5時20分 と 6時15分



時こくと時間

年 組 名前

/10

■ つぎの 2つの 時こくの 間の時間を 答えましょう。

① 3時30分 と 4時25分



⑥ 1時35分 と 2時5分



② 10時50分 と 11時40分



⑦ 9時40分 と 10時5分



③ 6時35分 と 7時25分



⑧ 8時55分 と 9時25分



④ 7時55分 と 8時15分



⑨ 11時40分 と 12時20分



⑤ 2時30分 と 3時15分



⑩ 5時20分 と 6時15分

