

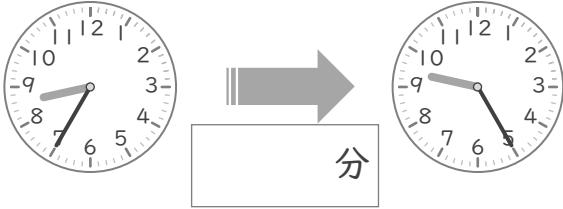
時こくと時間

年 組 名前

/10

■ つぎの 2つの 時こくの 間の時間を 答えましょう。

① 8時35分 と 9時25分



⑥ 6時55分 と 7時40分



② 3時40分 と 4時15分



⑦ 2時40分 と 3時35分



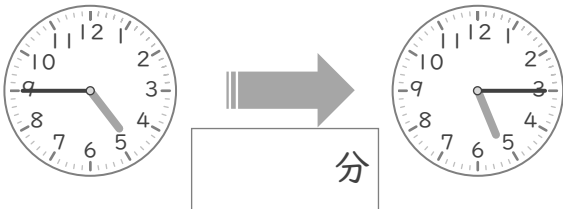
③ 10時40分 と 11時25分



⑧ 5時20分 と 6時15分



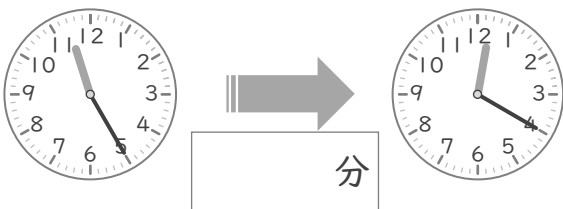
④ 4時45分 と 5時15分



⑨ 9時55分 と 10時45分



⑤ 11時25分 と 12時20分



⑩ 7時50分 と 8時30分



時こくと時間

年 組 名前

/10

■ つぎの 2つの 時こくの 間の時間を 答えましょう。

① 8時35分 と 9時25分



⑥ 6時55分 と 7時40分



② 3時40分 と 4時15分



⑦ 2時40分 と 3時35分



③ 10時40分 と 11時25分



⑧ 5時20分 と 6時15分



④ 4時45分 と 5時15分



⑨ 9時55分 と 10時45分



⑤ 11時25分 と 12時20分



⑩ 7時50分 と 8時30分

