

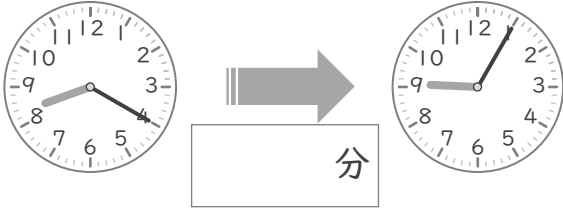
時こくと時間

年 組 名前

/10

■ つぎの 2つの 時こくの 間の時間を 答えましょう。

① 8時20分 と 9時5分



⑥ 2時35分 と 3時5分



② 3時40分 と 4時15分



⑦ 6時50分 と 7時10分



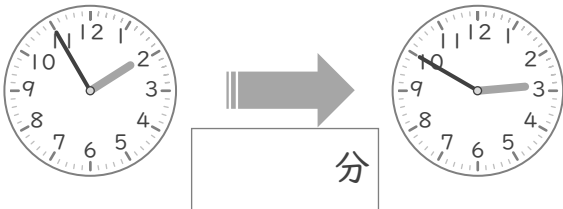
③ 5時45分 と 6時30分



⑧ 11時45分 と 12時25分



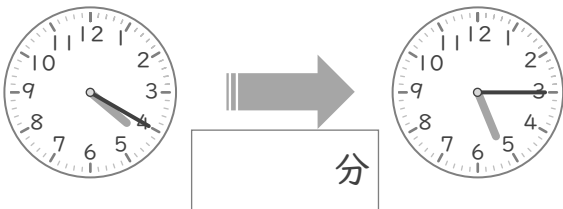
④ 1時55分 と 2時50分



⑨ 7時45分 と 8時35分



⑤ 4時20分 と 5時15分



⑩ 9時50分 と 10時5分



時こくと時間

年 組 名前

/10

■ つぎの 2つの 時こくの 間の時間を 答えましょう。

① 8時20分 と 9時5分



⑥ 2時35分 と 3時5分



② 3時40分 と 4時15分



⑦ 6時50分 と 7時10分



③ 5時45分 と 6時30分



⑧ 11時45分 と 12時25分



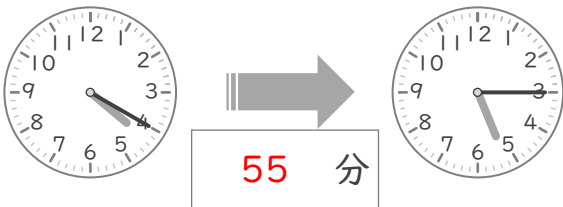
④ 1時55分 と 2時50分



⑨ 7時45分 と 8時35分



⑤ 4時20分 と 5時15分



⑩ 9時50分 と 10時5分

