

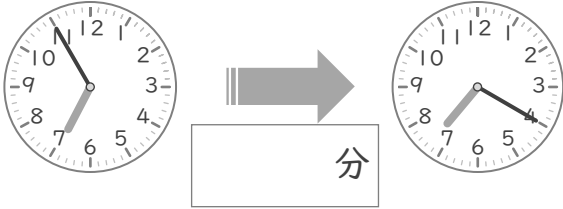
時こくと時間

年 組 名前

/10

■ つぎの 2つの 時こくの 間の時間を 答えましょう。

① 6時55分 と 7時20分



⑥ 1時50分 と 2時40分



② 8時15分 と 9時5分



⑦ 2時45分 と 3時30分



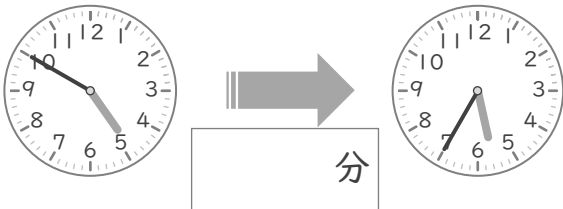
③ 7時20分 と 8時5分



⑧ 9時50分 と 10時20分



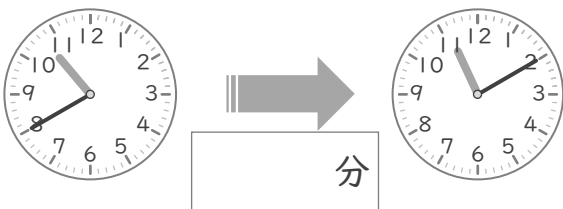
④ 4時50分 と 5時35分



⑨ 3時55分 と 4時30分



⑤ 10時40分 と 11時10分



⑩ 5時30分 と 6時25分



時こくと時間

年 組 名前

/10

■ つぎの 2つの 時こくの 間の時間を 答えましょう。

① 6時55分 と 7時20分



⑥ 1時50分 と 2時40分



② 8時15分 と 9時5分



⑦ 2時45分 と 3時30分



③ 7時20分 と 8時5分



⑧ 9時50分 と 10時20分



④ 4時50分 と 5時35分



⑨ 3時55分 と 4時30分



⑤ 10時40分 と 11時10分



⑩ 5時30分 と 6時25分

