

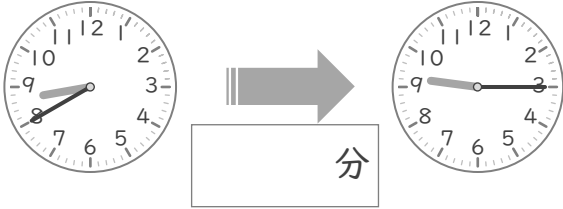
時こくと時間

年 組 名前

/10

■ つぎの 2つの 時こくの 間の時間を 答えましょう。

① 8時40分 と 9時15分



⑥ 2時40分 と 3時25分



② 10時40分 と 11時35分



⑦ 5時45分 と 6時5分



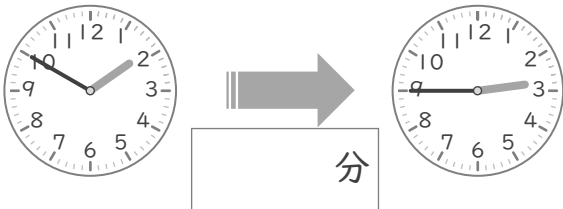
③ 3時55分 と 4時40分



⑧ 4時50分 と 5時10分



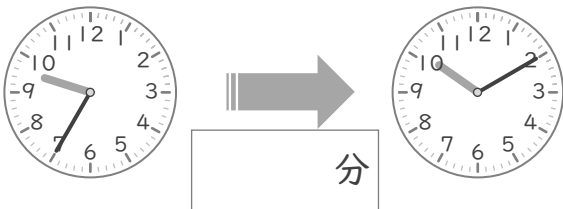
④ 1時50分 と 2時45分



⑨ 7時35分 と 8時30分



⑤ 9時35分 と 10時10分



⑩ 11時45分 と 12時10分



時こくと時間

年 組 名前

/10

■ つぎの 2つの 時こくの 間の時間を 答えましょう。

① 8時40分 と 9時15分



⑥ 2時40分 と 3時25分



② 10時40分 と 11時35分



⑦ 5時45分 と 6時5分



③ 3時55分 と 4時40分



⑧ 4時50分 と 5時10分



④ 1時50分 と 2時45分



⑨ 7時35分 と 8時30分



⑤ 9時35分 と 10時10分



⑩ 11時45分 と 12時10分

