

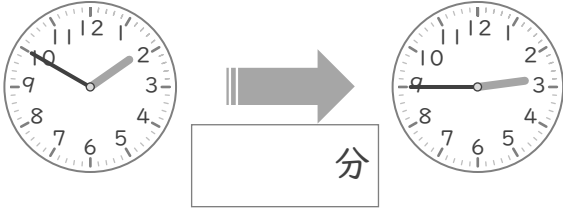
時こくと時間

年 組 名前

/10

■ つぎの 2つの 時こくの 間の時間を 答えましょう。

① 1時50分 と 2時45分



⑥ 3時40分 と 4時25分



② 9時40分 と 10時10分



⑦ 7時45分 と 8時15分



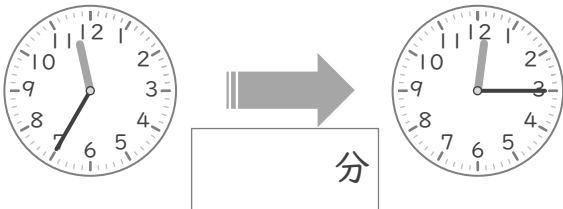
③ 2時45分 と 3時20分



⑧ 8時35分 と 9時25分



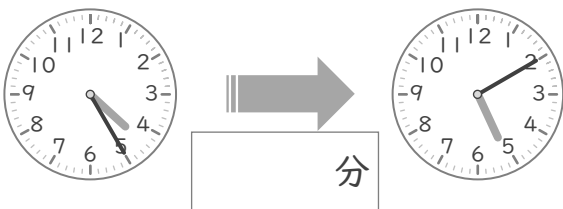
④ 11時35分 と 12時15分



⑨ 5時55分 と 6時15分



⑤ 4時25分 と 5時10分



⑩ 10時40分 と 11時20分



時こくと時間

年 組 名前

/10

■ つぎの 2つの 時こくの 間の時間を 答えましょう。

① 1時50分 と 2時45分



⑥ 3時40分 と 4時25分



② 9時40分 と 10時10分



⑦ 7時45分 と 8時15分



③ 2時45分 と 3時20分



⑧ 8時35分 と 9時25分



④ 11時35分 と 12時15分



⑨ 5時55分 と 6時15分



⑤ 4時25分 と 5時10分



⑩ 10時40分 と 11時20分

