

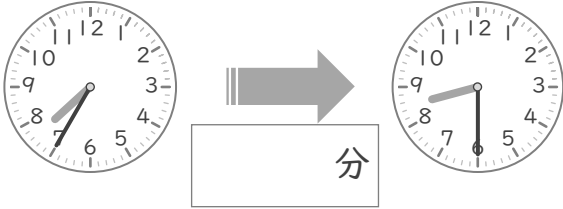
# 時こくと時間

年 組 名前

/10

■ つぎの 2つの 時こくの 間の時間を 答えましょう。

① 7時35分 と 8時30分



⑥ 4時40分 と 5時35分



② 2時25分 と 3時20分



⑦ 6時35分 と 7時20分



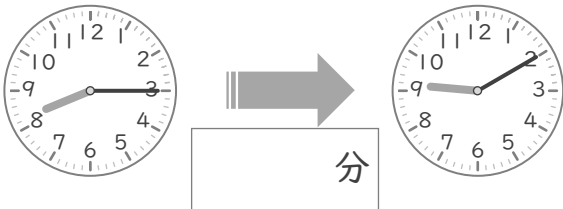
③ 1時30分 と 2時15分



⑧ 11時35分 と 12時15分



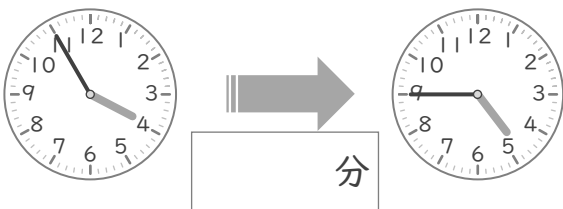
④ 8時15分 と 9時10分



⑨ 5時45分 と 6時25分



⑤ 3時55分 と 4時45分



⑩ 10時50分 と 11時30分



# 時こくと時間

年 組 名前

/10

■ つぎの 2つの 時こくの 間の時間を 答えましょう。

① 7時35分 と 8時30分



⑥ 4時40分 と 5時35分



② 2時25分 と 3時20分



⑦ 6時35分 と 7時20分



③ 1時30分 と 2時15分



⑧ 11時35分 と 12時15分



④ 8時15分 と 9時10分



⑨ 5時45分 と 6時25分



⑤ 3時55分 と 4時45分



⑩ 10時50分 と 11時30分

