

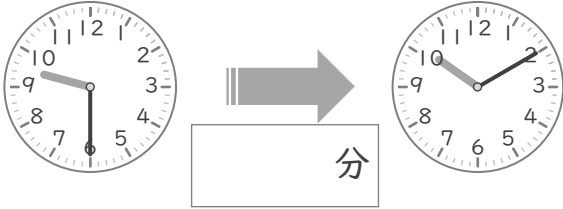
時こくと時間

年 組 名前

/10

■ つぎの 2つの 時こくの 間の時間を 答えましょう。

① 9時30分 と 10時10分



⑥ 7時45分 と 8時25分



② 3時30分 と 4時25分



⑦ 8時25分 と 9時20分



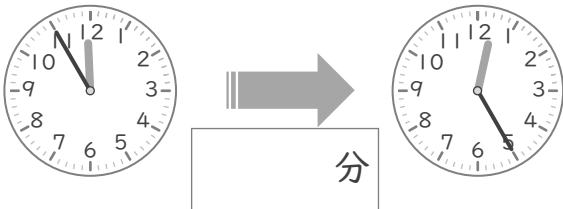
③ 1時50分 と 2時35分



⑧ 5時15分 と 6時10分



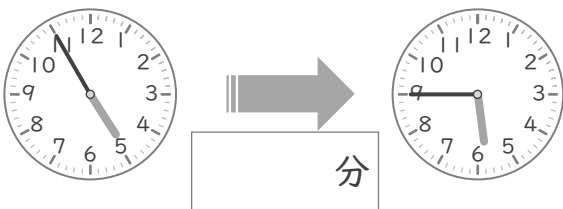
④ 11時55分 と 12時25分



⑨ 6時55分 と 7時30分



⑤ 4時55分 と 5時45分



⑩ 2時35分 と 3時10分



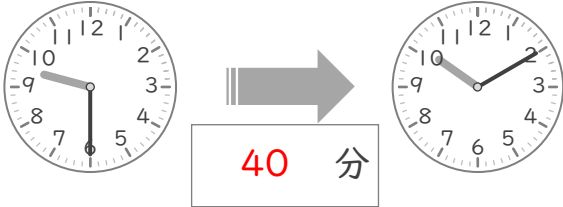
時こくと時間

年 組 名前

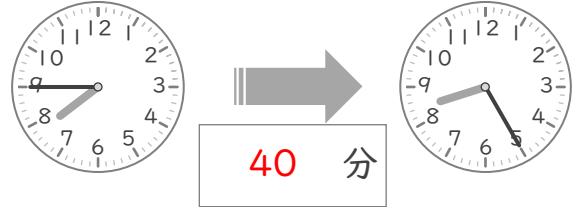
/10

■ つぎの 2つの 時こくの 間の時間を 答えましょう。

① 9時30分 と 10時10分



⑥ 7時45分 と 8時25分



② 3時30分 と 4時25分



⑦ 8時25分 と 9時20分



③ 1時50分 と 2時35分



⑧ 5時15分 と 6時10分



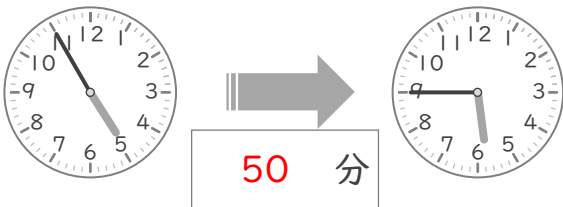
④ 11時55分 と 12時25分



⑨ 6時55分 と 7時30分



⑤ 4時55分 と 5時45分



⑩ 2時35分 と 3時10分

