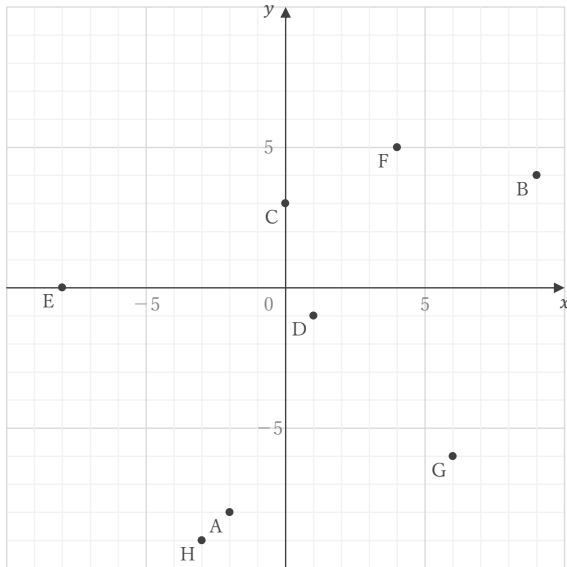
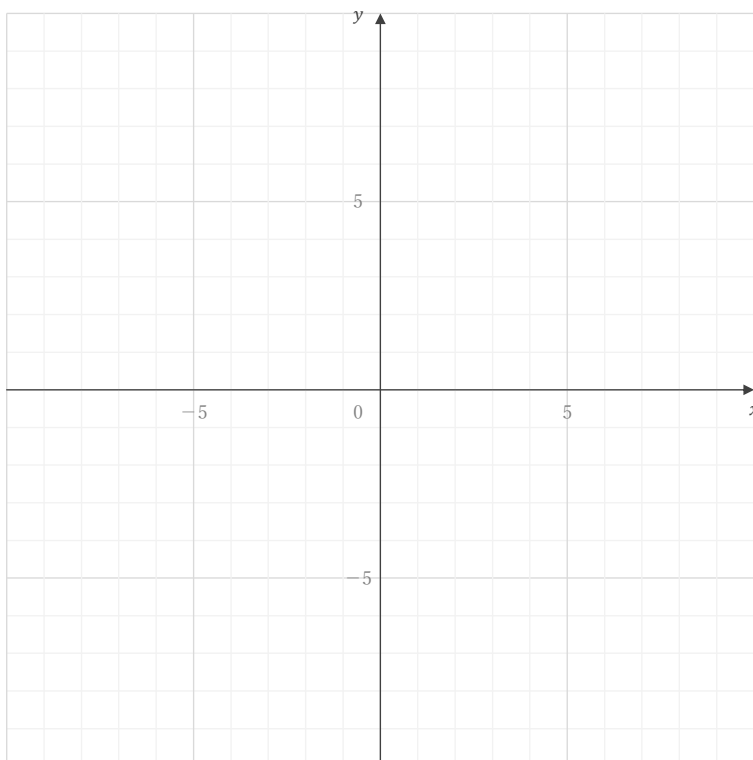


■ 下の図の点 A ~ H の座標をそれぞれ答えなさい。

A E B F C G D H

■ 座標が① ~ ⑥である点を下の図にかき入れなさい。

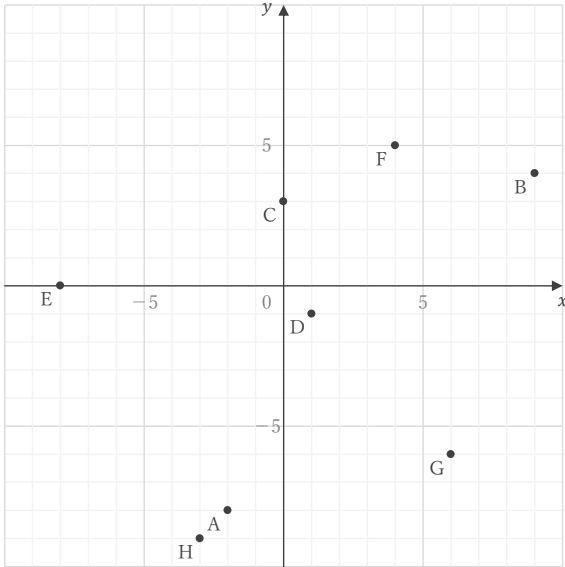
① $(-9, -6)$ ② $(0, -4)$ ③ $(6, 3)$ ④ $(-8, 2)$ ⑤ $(3, 8)$ ⑥ $(-7, -9)$

座標

____年 ____組 名前 _____

/14

■ 下の図の点 A ~ H の座標をそれぞれ答えなさい。



A $(-2, -8)$

E $(-8, 0)$

B $(9, 4)$

F $(4, 5)$

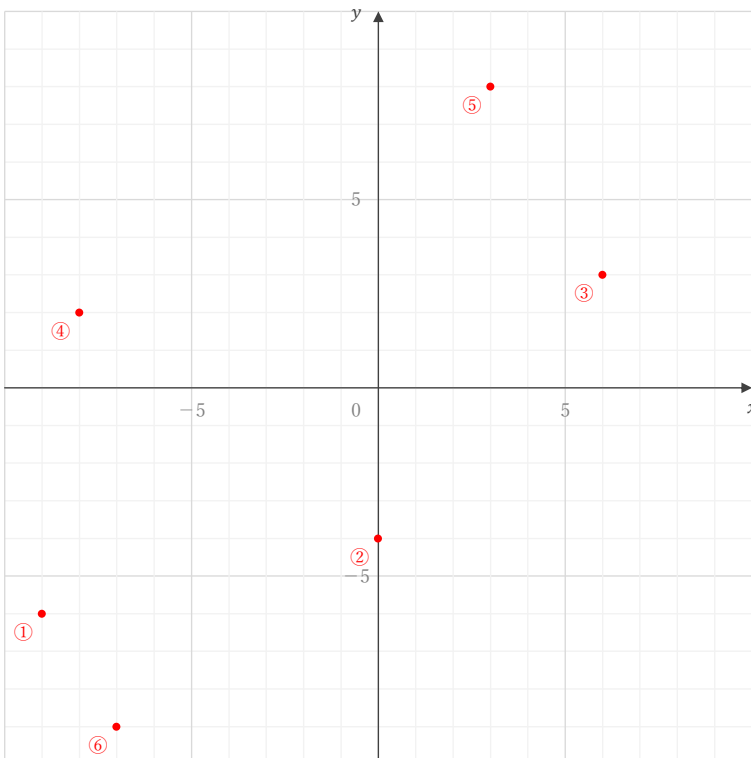
C $(0, 3)$

G $(6, -6)$

D $(1, -1)$

H $(-3, -9)$

■ 座標が ① ~ ⑥ である点を下の図にかき入れなさい。



① $(-9, -6)$

② $(0, -4)$

③ $(6, 3)$

④ $(-8, 2)$

⑤ $(3, 8)$

⑥ $(-7, -9)$