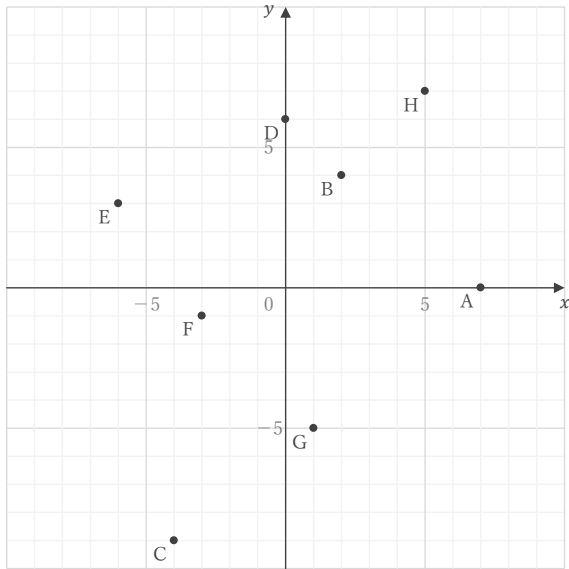
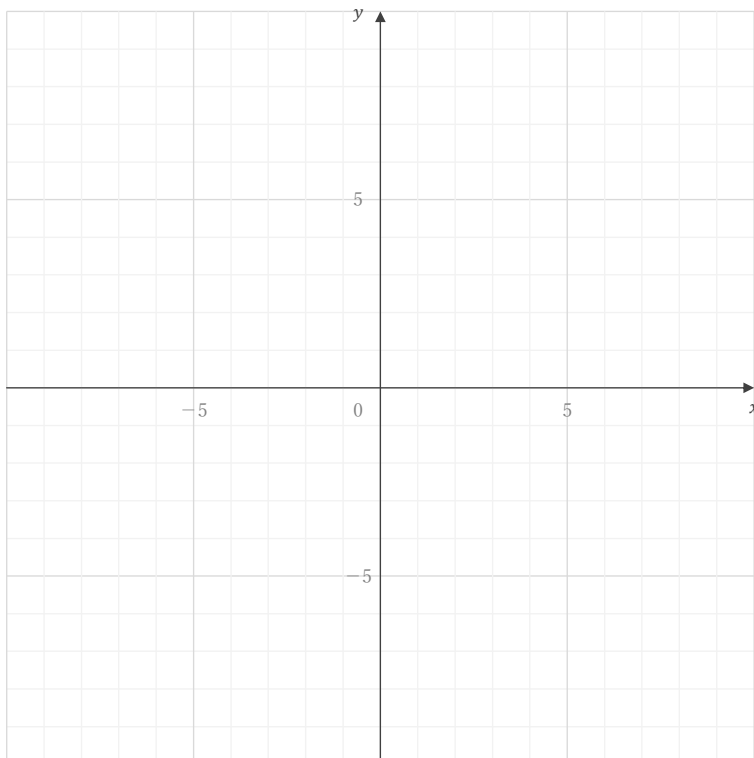


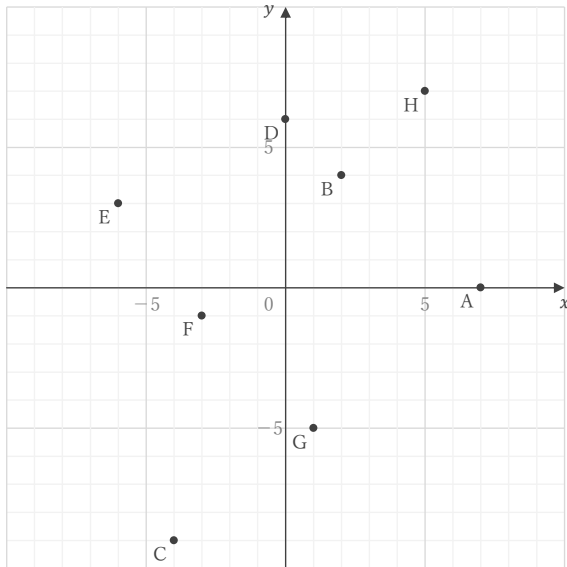
■ 下の図の点 A ~ H の座標をそれぞれ答えなさい。

A E B F C G D H

■ 座標が① ~ ⑥である点を下の図にかき入れなさい。

① $(-1, -8)$ ② $(9, 0)$ ③ $(7, 2)$ ④ $(-6, 9)$ ⑤ $(3, 1)$ ⑥ $(-4, 5)$

■ 下の図の点 A ~ H の座標をそれぞれ答えなさい。



A (7, 0)

B (2, 4)

C (-4, -9)

D (0, 6)

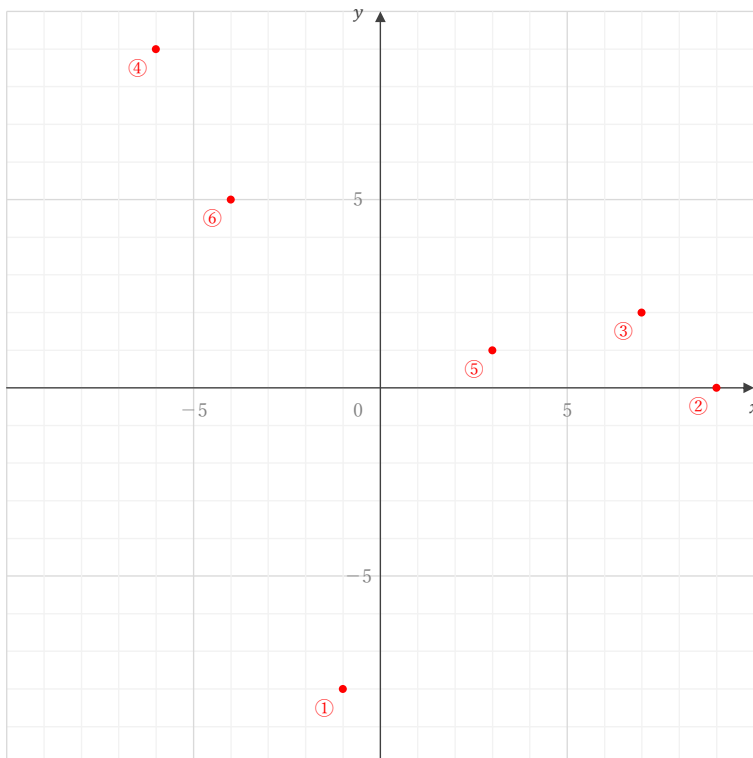
E (-6, 3)

F (-3, -1)

G (1, -5)

H (5, 7)

■ 座標が① ~ ⑥である点を下の図にかき入れなさい。



① (-1, -8)

② (9, 0)

③ (7, 2)

④ (-6, 9)

⑤ (3, 1)

⑥ (-4, 5)