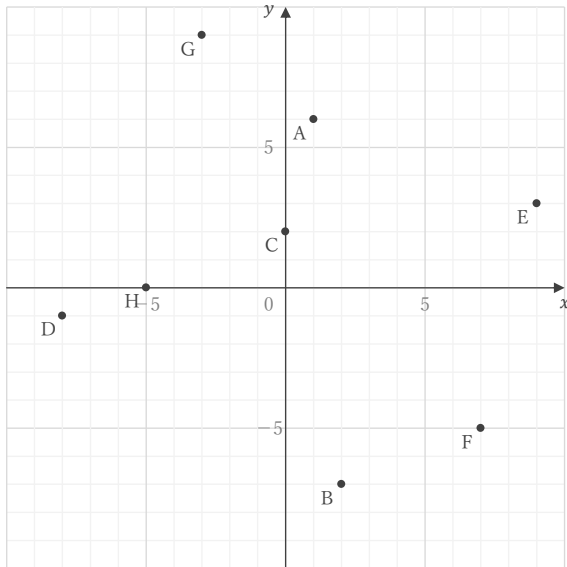
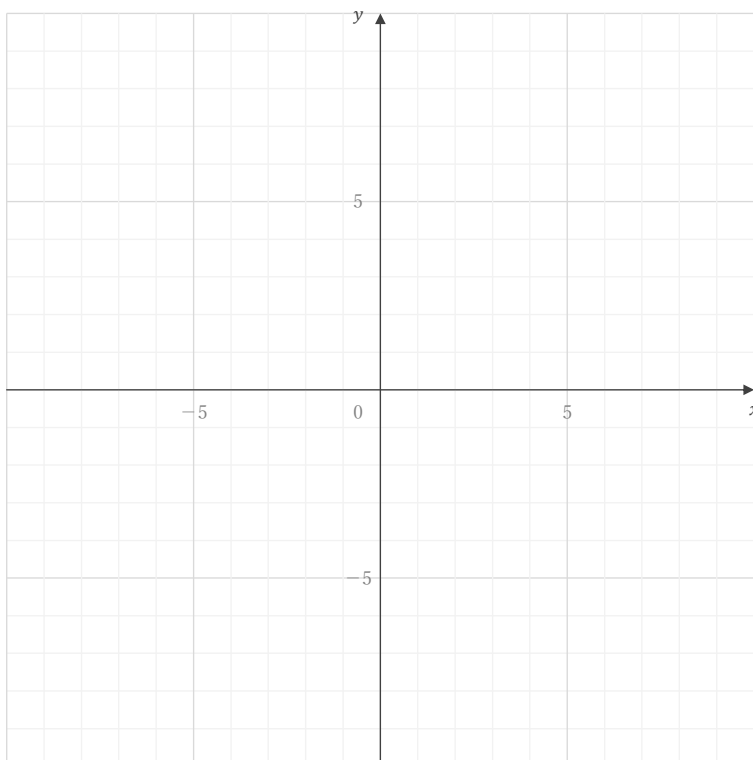


■ 下の図の点 A ~ H の座標をそれぞれ答えなさい。

A E B F C G D H

■ 座標が① ~ ⑥である点を下の図にかき入れなさい。

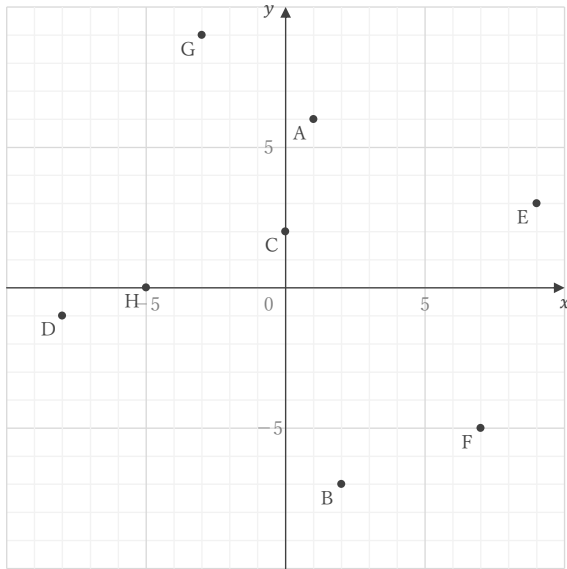
① $(-3, -4)$ ② $(4, 7)$ ③ $(9, -2)$ ④ $(-5, 1)$ ⑤ $(1, 8)$ ⑥ $(-2, 0)$

座標

____年 ____組 名前

/14

■ 下の図の点 A ~ H の座標をそれぞれ答えなさい。



A (1, 6)

E (9, 3)

B (2, -7)

F (7, -5)

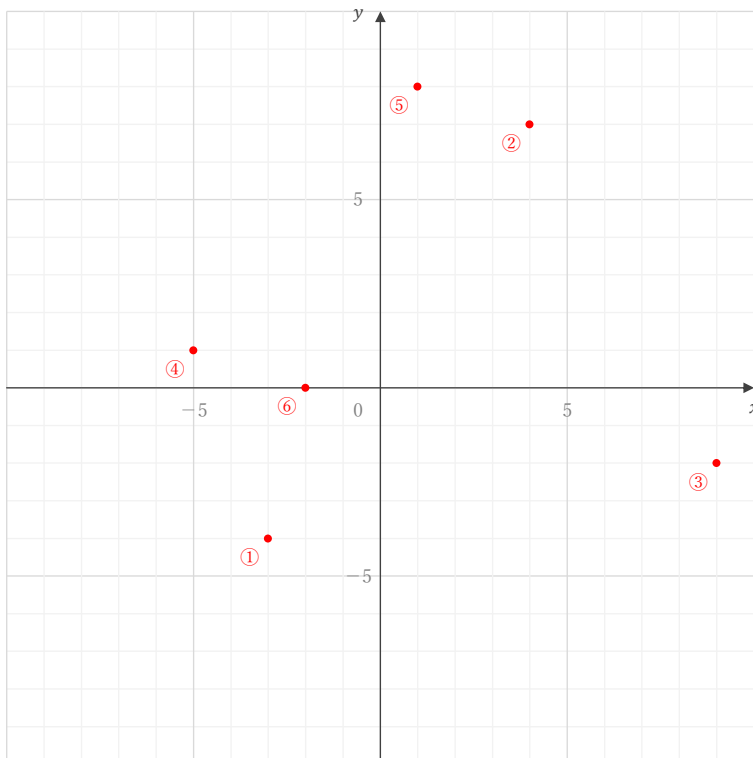
C (0, 2)

G (-3, 9)

D (-8, -1)

H (-5, 0)

■ 座標が ① ~ ⑥ である点を下の図にかき入れなさい。



① (-3, -4)

② (4, 7)

③ (9, -2)

④ (-5, 1)

⑤ (1, 8)

⑥ (-2, 0)