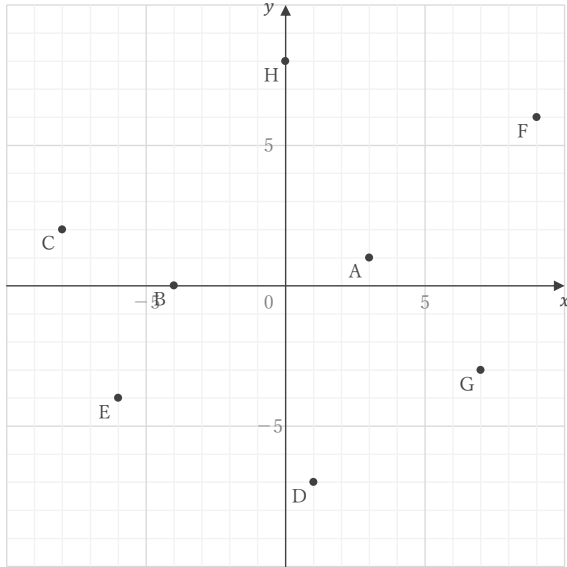
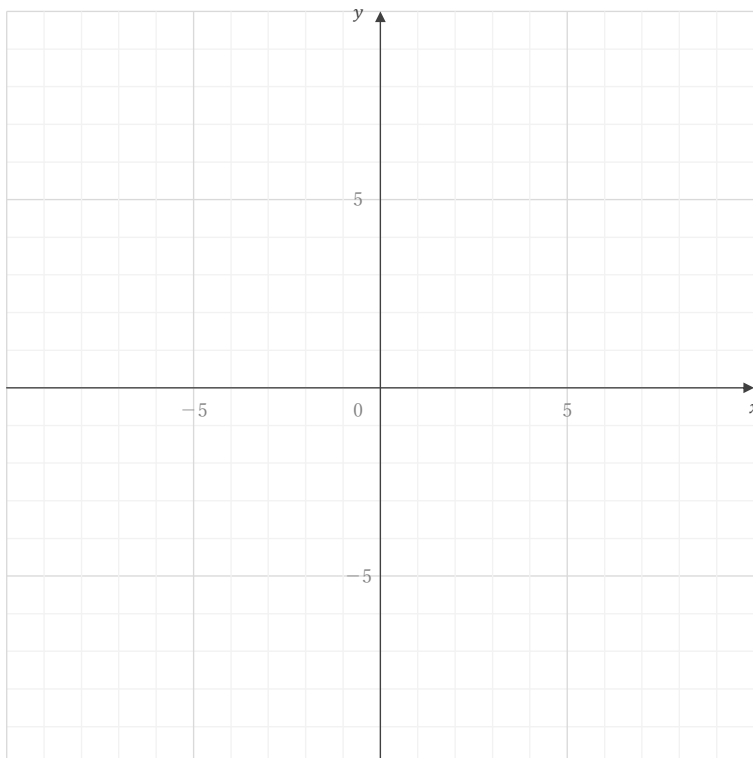


■ 下の図の点 A ~ H の座標をそれぞれ答えなさい。

A E B F C G D H

■ 座標が ① ~ ⑥ である点を下の図にかき入れなさい。



① (6, 4)

② (-9, 0)

③ (-4, -2)

④ (5, -3)

⑤ (7, 9)

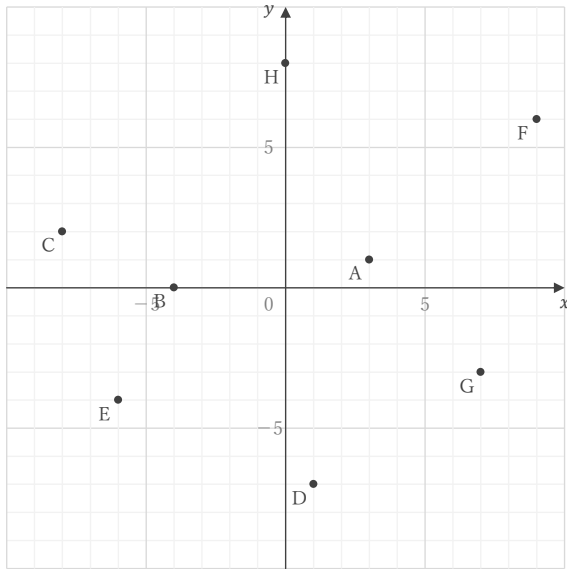
⑥ (-1, -8)

座標

年 組 名前

/14

■ 下の図の点 A ~ H の座標をそれぞれ答えなさい。



A (3, 1)

E (-6, -4)

B (-4, 0)

F (9, 6)

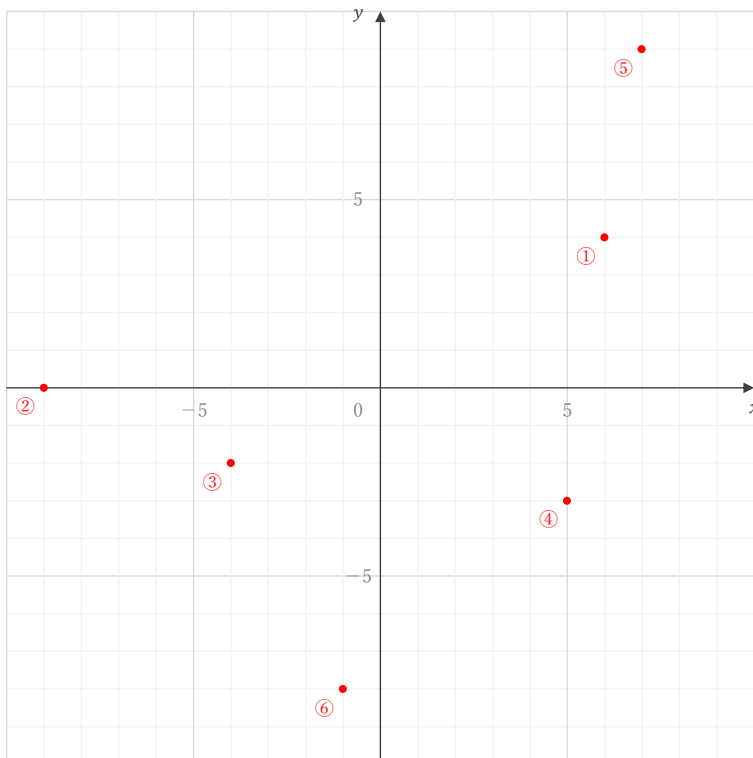
C (-8, 2)

G (7, -3)

D (1, -7)

H (0, 8)

■ 座標が ① ~ ⑥ である点を下の図にかき入れなさい。



① (6, 4)

② (-9, 0)

③ (-4, -2)

④ (5, -3)

⑤ (7, 9)

⑥ (-1, -8)