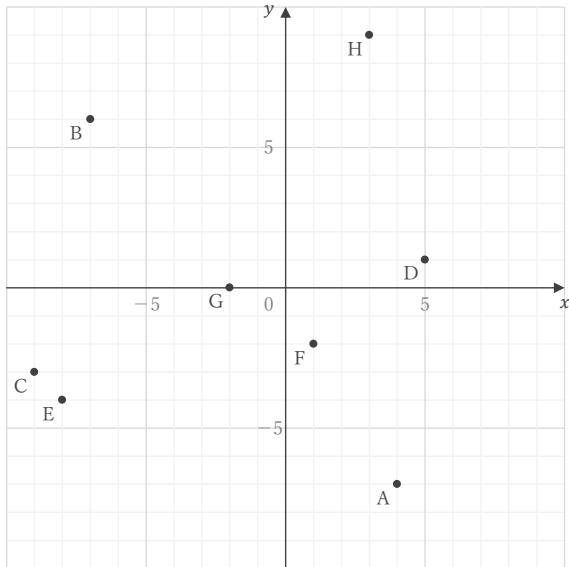
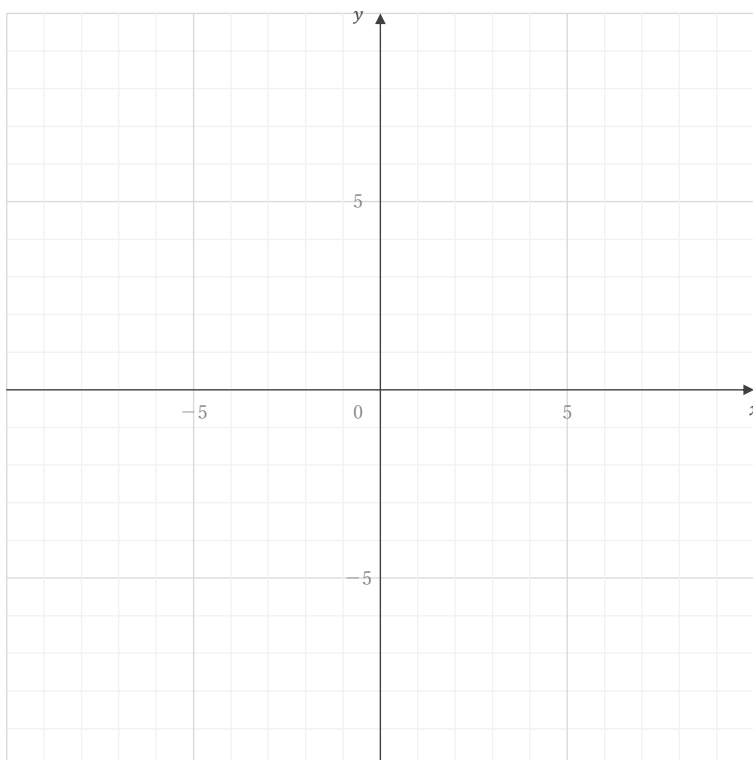


■ 下の図の点 A ~ H の座標をそれぞれ答えなさい。

A E B F C G D H

■ 座標が① ~ ⑥である点を下の図にかき入れなさい。

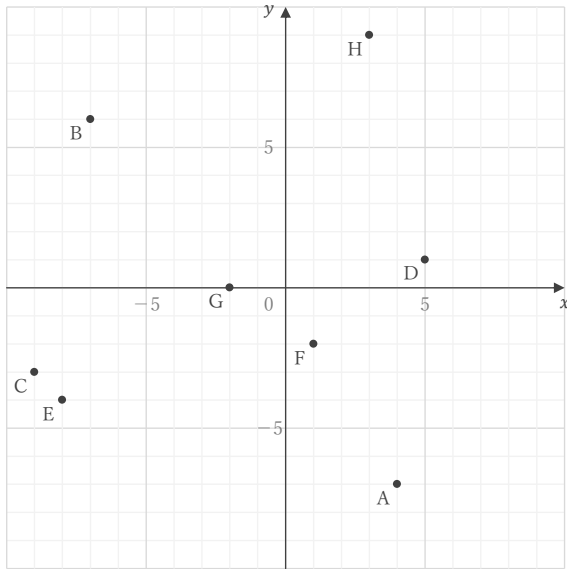
① $(-6, -1)$ ② $(0, 3)$ ③ $(3, -9)$ ④ $(-1, 4)$ ⑤ $(4, 6)$ ⑥ $(-5, -7)$

座標

年 組 名前

/14

■ 下の図の点 A ~ H の座標をそれぞれ答えなさい。



A (4, -7)

E (-8, -4)

B (-7, 6)

F (1, -2)

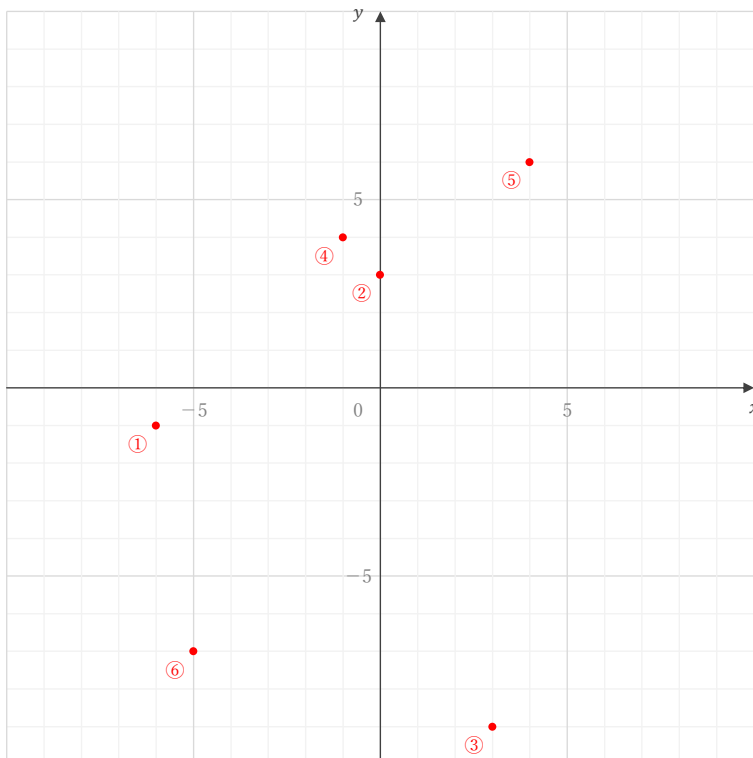
C (-9, -3)

G (-2, 0)

D (5, 1)

H (3, 9)

■ 座標が ① ~ ⑥ である点を下の図にかき入れなさい。



① (-6, -1)

② (0, 3)

③ (3, -9)

④ (-1, 4)

⑤ (4, 6)

⑥ (-5, -7)