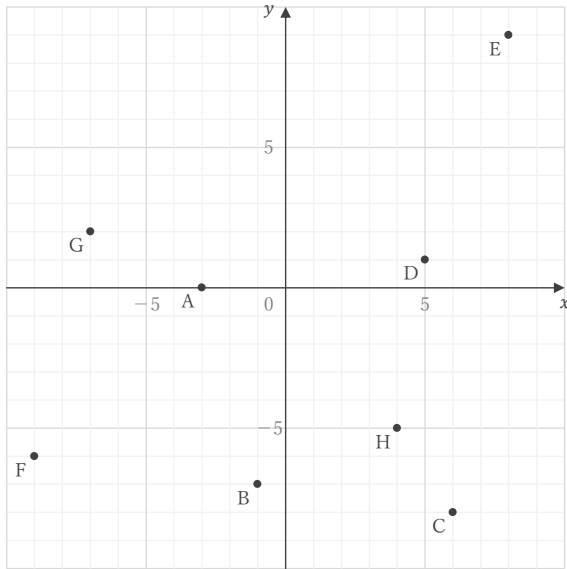


座標

____年 ____組 名前

/14

■ 下の図の点 A ~ H の座標をそれぞれ答えなさい。



A

E

B

F

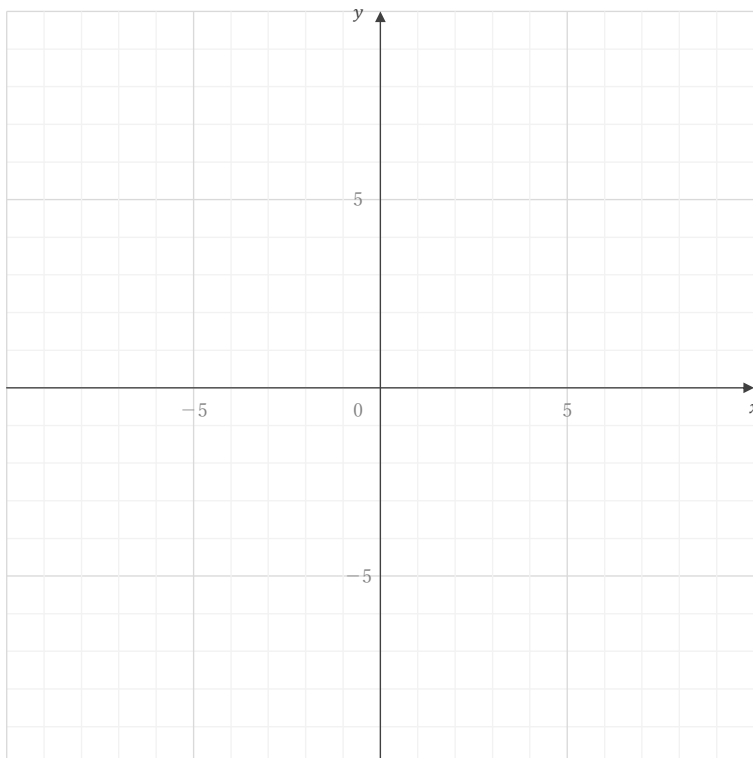
C

G

D

H

■ 座標が ① ~ ⑥ である点を下の図にかき入れなさい。



① $(-7, -1)$

② $(9, 8)$

③ $(4, -7)$

④ $(-6, 9)$

⑤ $(5, 0)$

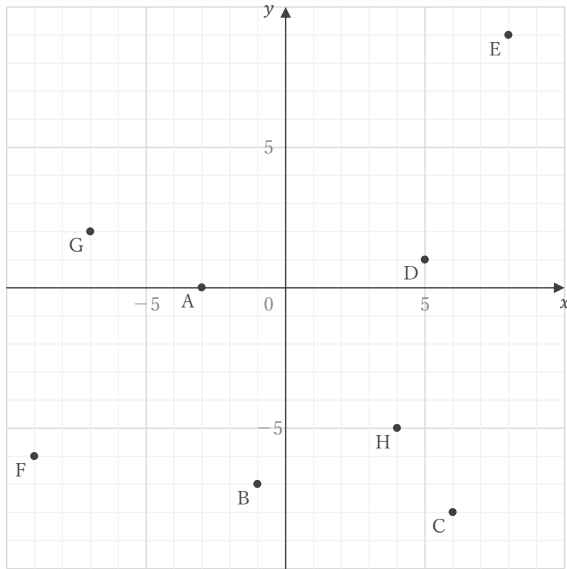
⑥ $(0, -2)$

座標

____年 ____組 名前

/14

■ 下の図の点 A ~ H の座標をそれぞれ答えなさい。



A $(-3, 0)$

E $(8, 9)$

B $(-1, -7)$

F $(-9, -6)$

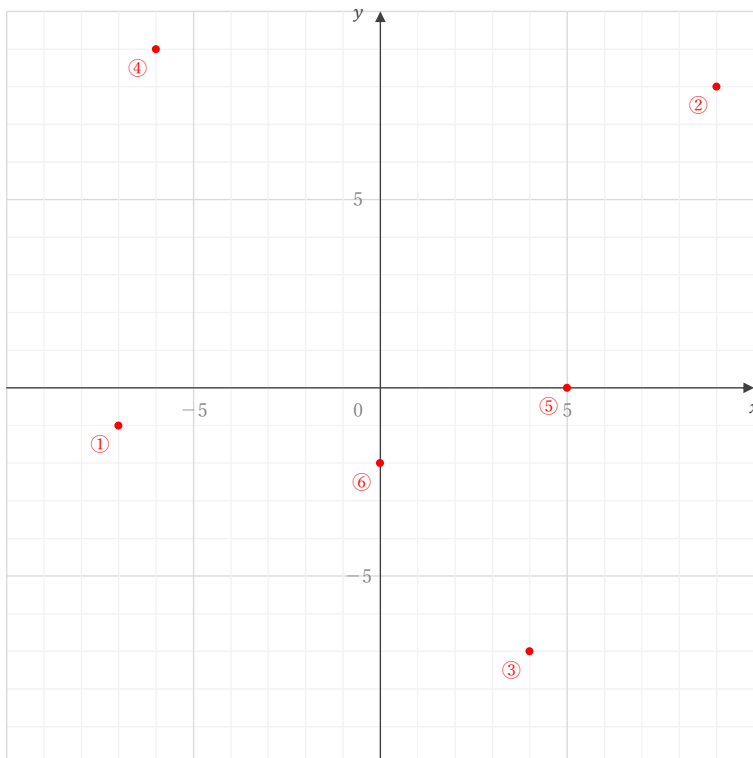
C $(6, -8)$

G $(-7, 2)$

D $(5, 1)$

H $(4, -5)$

■ 座標が ① ~ ⑥ である点を下の図にかき入れなさい。



① $(-7, -1)$

② $(9, 8)$

③ $(4, -7)$

④ $(-6, 9)$

⑤ $(5, 0)$

⑥ $(0, -2)$