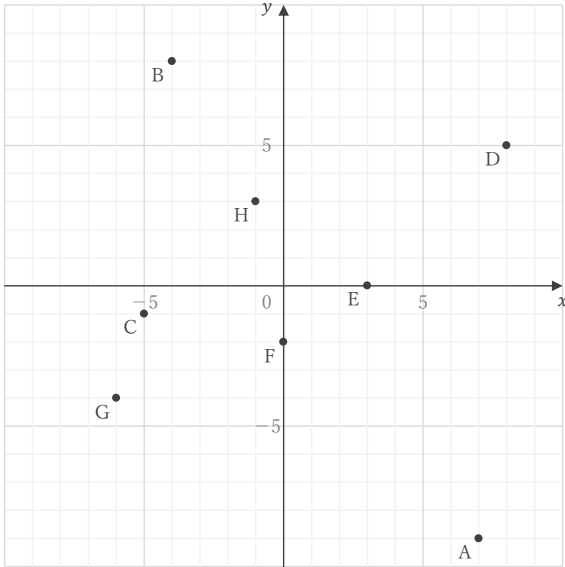
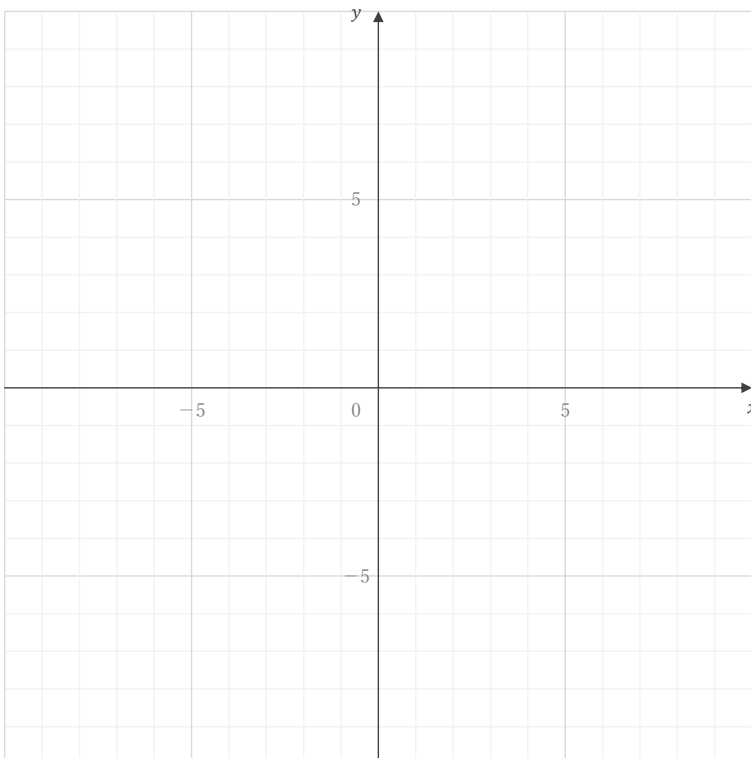


■ 下の図の点 A ~ H の座標をそれぞれ答えなさい。

A E B F C G D H 

■ 座標が①～⑥である点を下の図にかき入れなさい。

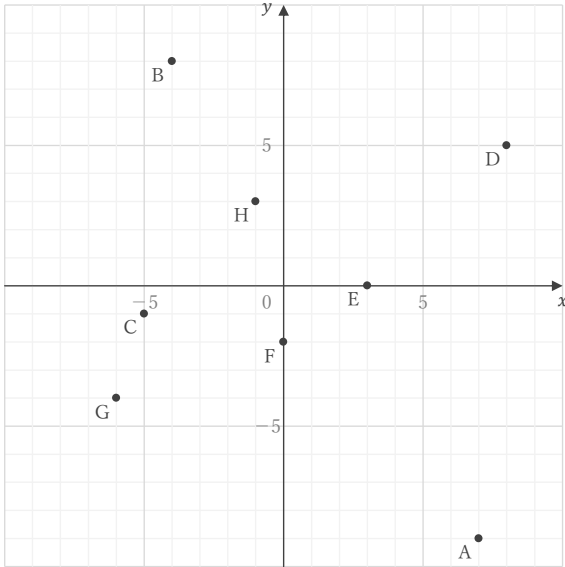
①  $(-9, -9)$ ②  $(2, -5)$ ③  $(6, 0)$ ④  $(0, 2)$ ⑤  $(4, 6)$ ⑥  $(7, -1)$

# 座標

\_\_\_\_年 \_\_\_\_組 名前

/14

■ 下の図の点 A ~ H の座標をそれぞれ答えなさい。



A (7, -9)

E (3, 0)

B (-4, 8)

F (0, -2)

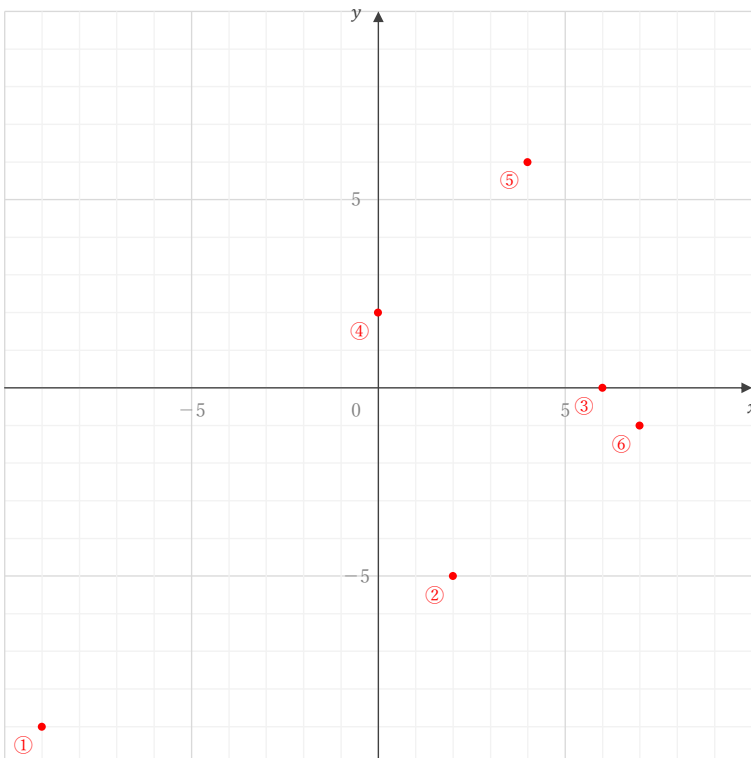
C (-5, -1)

G (-6, -4)

D (8, 5)

H (-1, 3)

■ 座標が ① ~ ⑥ である点を下の図にかき入れなさい。



① (-9, -9)

② (2, -5)

③ (6, 0)

④ (0, 2)

⑤ (4, 6)

⑥ (7, -1)