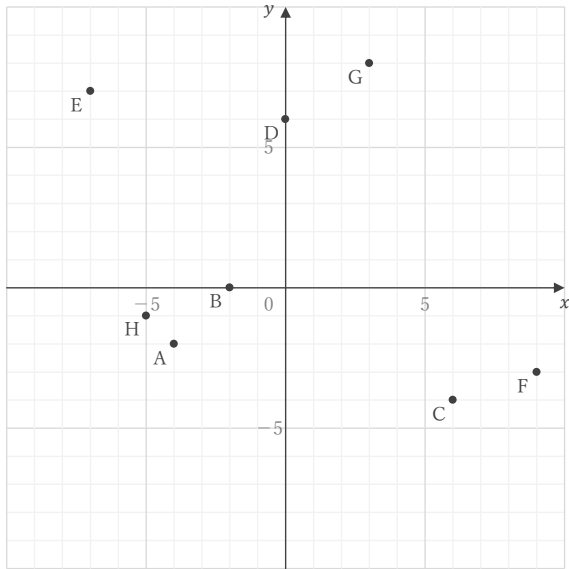


座標

____年 ____組 名前

/14

■ 下の図の点 A ~ H の座標をそれぞれ答えなさい。



A

B

C

D

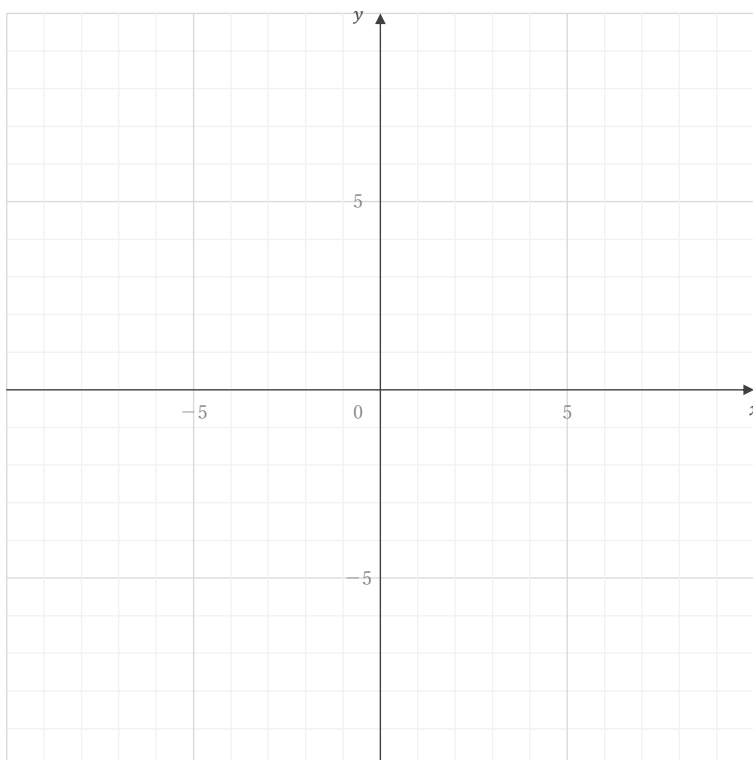
E

F

G

H

■ 座標が① ~ ⑥である点を下の図にかき入れなさい。



① $(-7, 9)$

② $(3, 0)$

③ $(2, -5)$

④ $(-1, -7)$

⑤ $(-4, -3)$

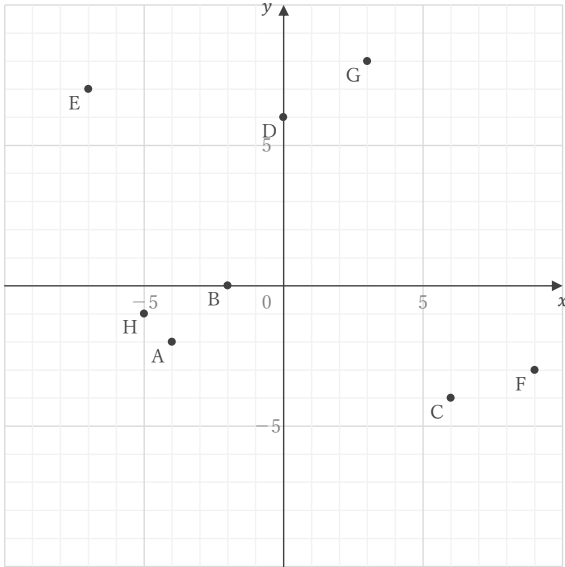
⑥ $(8, -4)$

座標

年 組 名前

/14

■ 下の図の点 A ~ H の座標をそれぞれ答えなさい。



A $(-4, -2)$

E $(-7, 7)$

B $(-2, 0)$

F $(9, -3)$

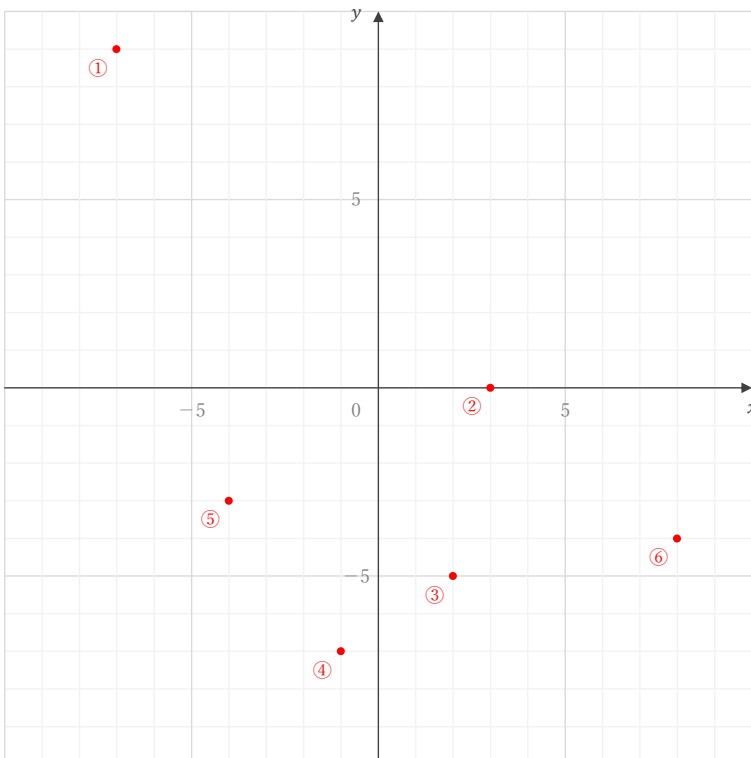
C $(6, -4)$

G $(3, 8)$

D $(0, 6)$

H $(-5, -1)$

■ 座標が ① ~ ⑥ である点を下の図にかき入れなさい。



① $(-7, 9)$

② $(3, 0)$

③ $(2, -5)$

④ $(-1, -7)$

⑤ $(-4, -3)$

⑥ $(8, -4)$