

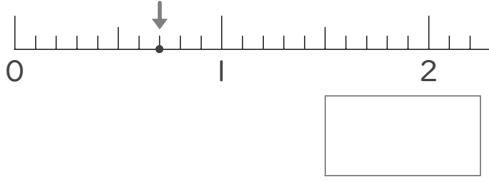
小数のまとめ

年 組 名前

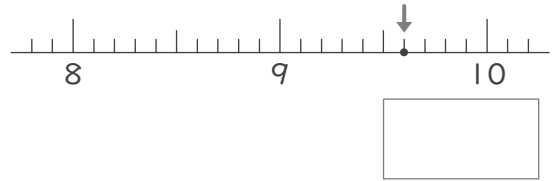
/16

■ つぎの数直線上の点が表す数を小数で答えましょう。

①



②



■ つぎのたし算やひき算をしましょう。

③ $8 + 2.4 =$

⑥ $8.6 - 5.1 =$

④ $7.4 + 0.8 =$

⑦ $9.4 - 2.4 =$

⑤ $6.6 + 5.4 =$

⑧ $8 - 4.1 =$

■ 3つの小数や整数をそれぞれ小さいじゆんにならべましょう。

⑨

7.2
6.8 1.7

< <

小さい 大きい

⑪

9
7.9 8.1

< <

小さい 大きい

⑬

6.5
7 7.9

< <

小さい 大きい

⑩

8.6
9 8.9

< <

小さい 大きい

⑫

1.8
5.8 0.8

< <

小さい 大きい

⑭

3.9
3.3 4.1

< <

小さい 大きい

■ 2つのつみきに書かれた整数や小数の和を上をつみきに書いていきましょう。

⑮

A block diagram with three levels. The bottom level has three blocks labeled A, B, and C with values 1.4, 5.1, and 2.9. The middle level has two blocks labeled A+B and B+C. The top level has one block labeled (A+B)+(B+C).

⑯

A block diagram with three levels. The bottom level has three blocks labeled A, B, and C with values 4.1, 4.9, and 1.7. The middle level has two blocks labeled A+B and B+C. The top level has one block labeled (A+B)+(B+C).

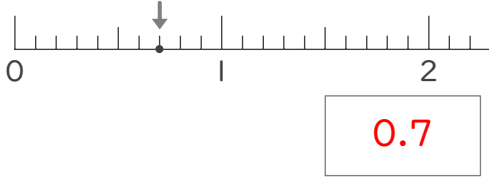
小数のまとめ

年 組 名前

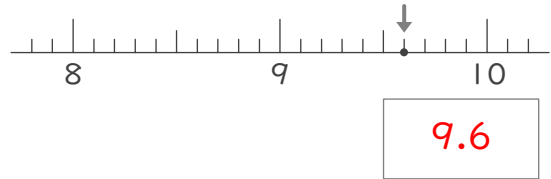
/16

■ つぎの数直線上の点が表す数を小数で答えましょう。

①



②



■ つぎのたし算やひき算をしましょう。

③ $8 + 2.4 = 10.4$

⑥ $8.6 - 5.1 = 3.5$

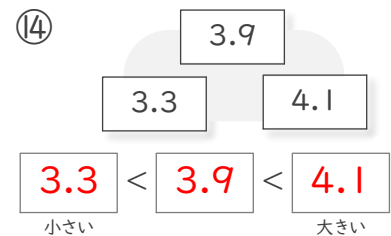
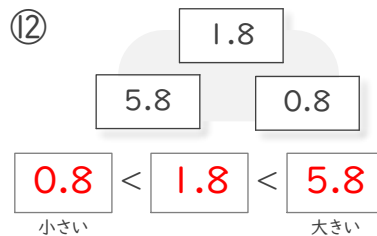
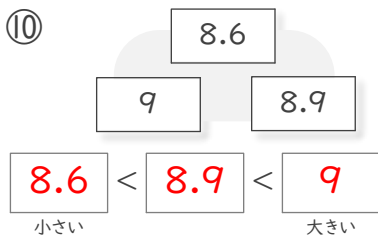
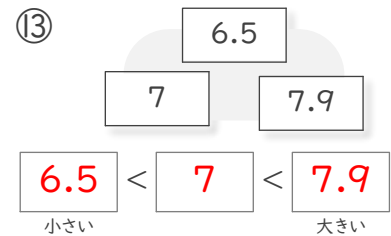
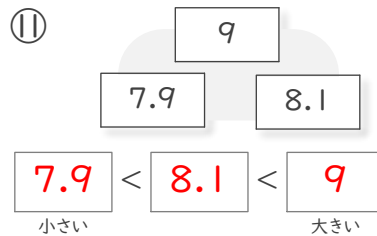
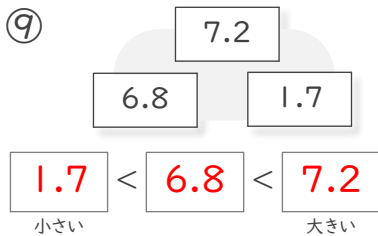
④ $7.4 + 0.8 = 8.2$

⑦ $9.4 - 2.4 = 7$

⑤ $6.6 + 5.4 = 12$

⑧ $8 - 4.1 = 3.9$

■ 3つの小数や整数をそれぞれ小さいじゆんにならべましょう。



■ 2つのつみきに書かれた整数や小数の和を上をつみきに書いていきましょう。

