

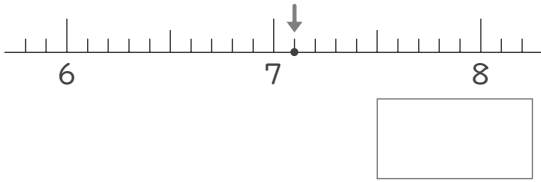
小数のまとめ

年 組 名前

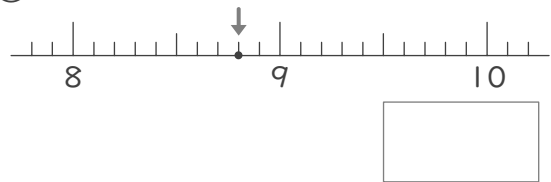
/16

■ つぎの数直線上の点が表す数を小数で答えましょう。

①



②



■ つぎのたし算やひき算をしましょう。

③ $7 + 4.7 =$

⑥ $8.4 - 4.3 =$

④ $3.9 + 3 =$

⑦ $9 - 4.5 =$

⑤ $9.2 + 2.6 =$

⑧ $6.1 - 5 =$

■ 3つの小数や整数をそれぞれ小さいじゆんにならべましょう。

⑨

8.1	
9	8.9

< <

小さい 大きい

⑩

8.8	
8.6	8.9

< <

小さい 大きい

⑪

7.5	
8	8.1

< <

小さい 大きい

⑫

3.6	
2.8	4

< <

小さい 大きい

⑬

5.2	
9.8	3.3

< <

小さい 大きい

⑭

4	
4.2	3.7

< <

小さい 大きい

■ 2つのつみきに書かれた整数や小数の和を上をつみきに書いていきましょう。

⑮

(A+B)+(B+C)		
A+B	B+C	
A	B	C
3.8	1.8	7.8

⑯

(A+B)+(B+C)		
A+B	B+C	
A	B	C
4.3	0.8	0.3

小数のまとめ

年 組 名前

/16

■ つぎの数直線上の点が表す数を小数で答えましょう。

①



7.1

②



8.8

■ つぎのたし算やひき算をしましょう。

③ $7 + 4.7 = 11.7$

⑥ $8.4 - 4.3 = 4.1$

④ $3.9 + 3 = 6.9$

⑦ $9 - 4.5 = 4.5$

⑤ $9.2 + 2.6 = 11.8$

⑧ $6.1 - 5 = 1.1$

■ 3つの小数や整数をそれぞれ小さいじゆんにならべましょう。

⑨

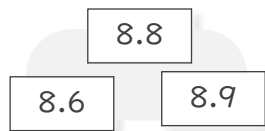


$8.1 < 8.9 < 9$

小さい

大きい

⑩

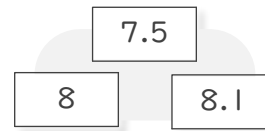


$8.6 < 8.8 < 8.9$

小さい

大きい

⑪

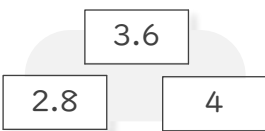


$7.5 < 8 < 8.1$

小さい

大きい

⑫



$2.8 < 3.6 < 4$

小さい

大きい

⑬



$3.3 < 5.2 < 9.8$

小さい

大きい

⑭



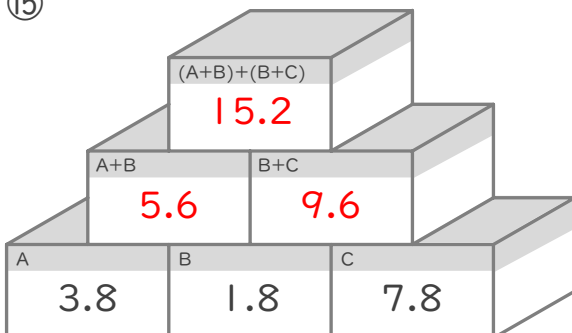
$3.7 < 4 < 4.2$

小さい

大きい

■ 2つのつみきに書かれた整数や小数の和を上のつみきに書いていきましょう。

⑮



⑯

