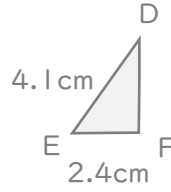
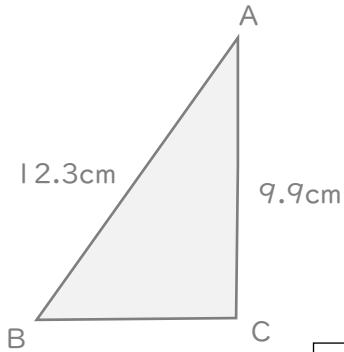


縮図の考え方

年 組 名前

16

■ 下の三角形 DEF は三角形 ABC の縮図です。

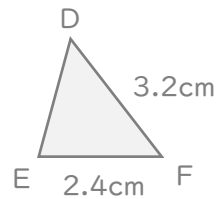
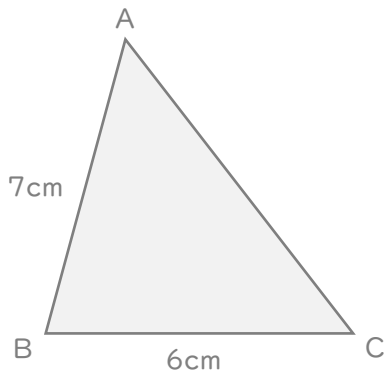


① 三角形 DEF は三角形 ABC の の縮図です。あてはまる分数を答えましょう。

② 辺 DF の長さは何 cm ですか。

③ 辺 BC の長さは何 cm ですか。

■ 下の三角形 DEF は三角形 ABC の縮図です。



④ 三角形 DEF は三角形 ABC の の縮図です。あてはまる分数を答えましょう。

⑤ 辺 DE の長さは何 cm ですか。

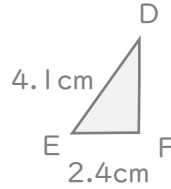
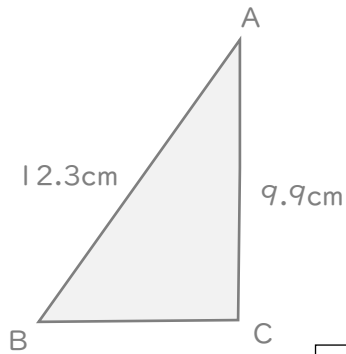
⑥ 辺 AC の長さは何 cm ですか。

縮図の考え方

年 組 名前

/ 6

■ 下の三角形 DEF は三角形 ABC の縮図です。



① 三角形 DEF は三角形 ABC の

$$\frac{1}{3}$$

の縮図です。あてはまる分数を答えましょう。

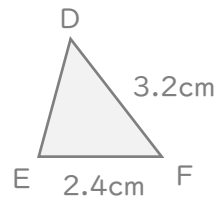
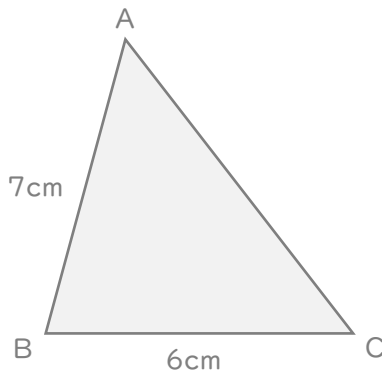
② 辺 DF の長さは何 cm ですか。

3.3cm

③ 辺 BC の長さは何 cm ですか。

7.2cm

■ 下の三角形 DEF は三角形 ABC の縮図です。



④ 三角形 DEF は三角形 ABC の

$$\frac{2}{5}$$

の縮図です。あてはまる分数を答えましょう。

⑤ 辺 DE の長さは何 cm ですか。

2.8cm

⑥ 辺 AC の長さは何 cm ですか。

8cm