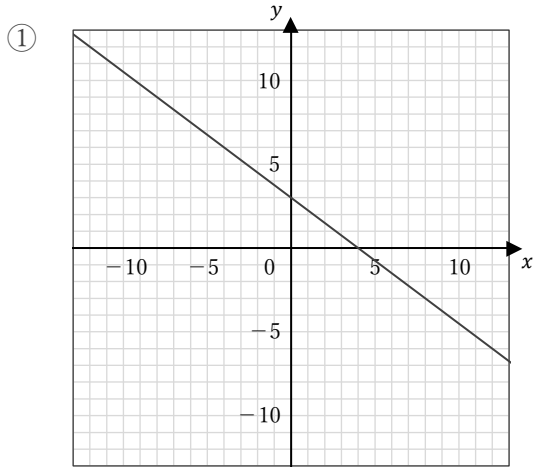


1次関数のグラフ

____年 ____組 名前

/ 4

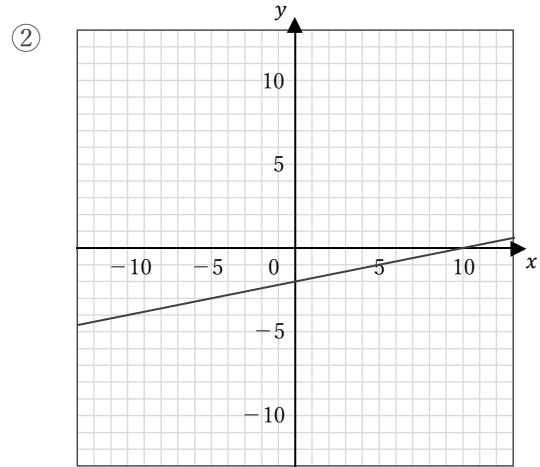
■ 次の1次関数のグラフの傾き・切片とその式を答えなさい。



傾き

切片

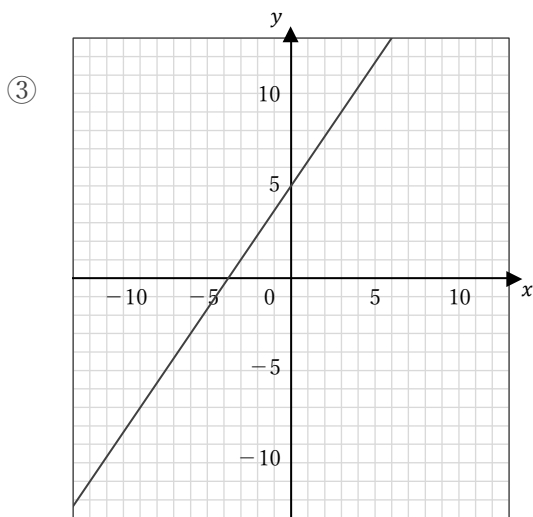
式



傾き

切片

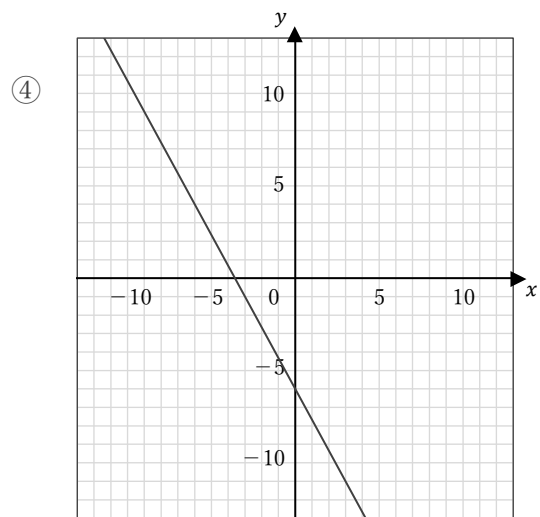
式



傾き

切片

式



傾き

切片

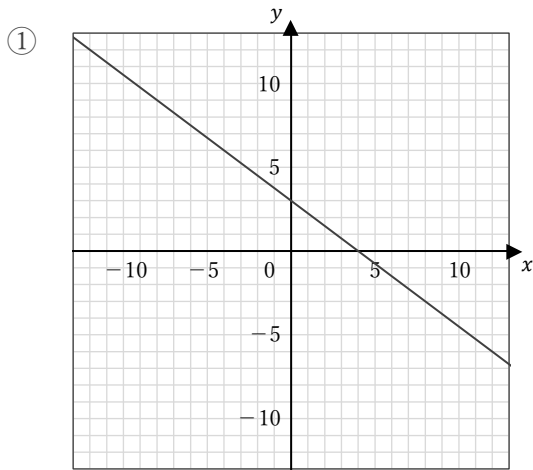
式

1次関数のグラフ

____年 ____組 名前

/ 4

■ 次の1次関数のグラフの傾き・切片とその式を答えなさい。



傾き

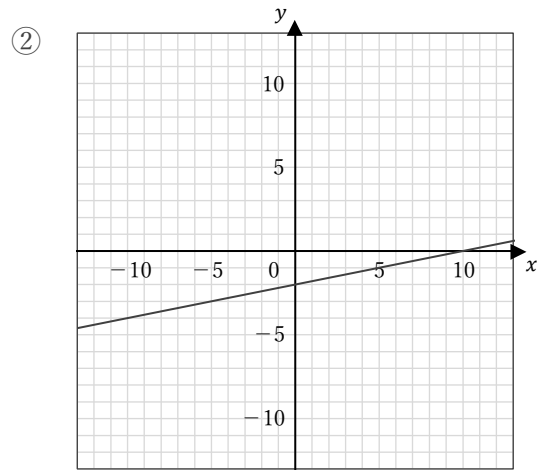
$$-\frac{3}{4}$$

切片

3

式

$$y = -\frac{3}{4}x + 3$$



傾き

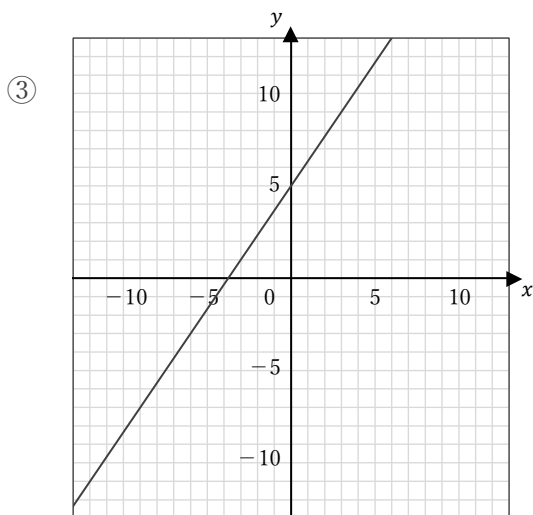
$$\frac{1}{5}$$

切片

-2

式

$$y = \frac{1}{5}x - 2$$



傾き

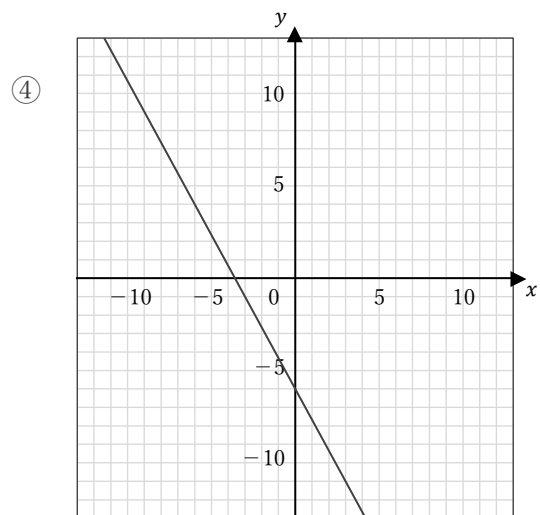
$$\frac{4}{3}$$

切片

5

式

$$y = \frac{4}{3}x + 5$$



傾き

$$-\frac{5}{3}$$

切片

-6

式

$$y = -\frac{5}{3}x - 6$$