

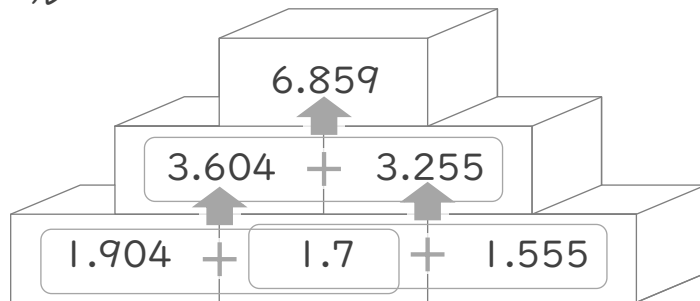
# 数字ピラミッド

年 組 名前

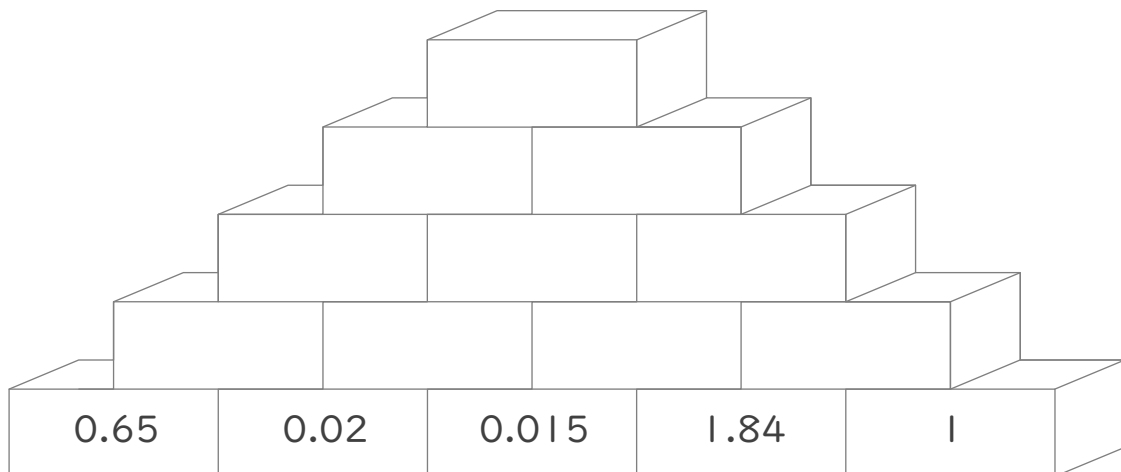
/10

■ ルールの通りに、つみきに数字をかきましょう。

ルール



2つのつみきに書かれた数の和を  
その2つの上のつみきを書く



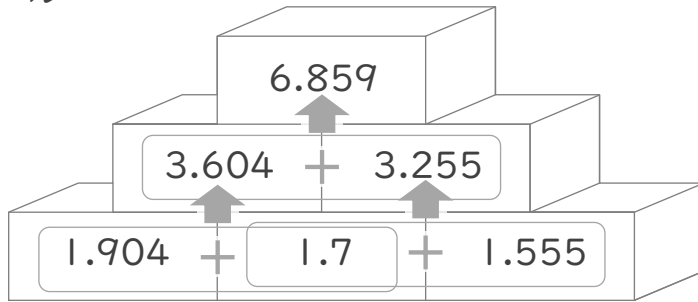
# 数字ピラミッド

年 組 名前

/10

■ ルールの通りに、つみきに数字をかきましょう。

ルール



2つのつみきに書かれた数の和を  
その2つの上のつみきに書く

